



GUÍA DE MATEMÁTICA – 3° BÁSICO – GUÍA 3 – SEMANA 3

Profesor responsable: José Otárola Cabrera

Nombre:

Fecha:

MA01 OA 06 (Prerrequisito): Componer y descomponer números del 0 a 20 de manera aditiva, en forma concreta, pictórica y simbólica.

Componer y descomponer números

Ejemplo:

Observa que puedes representar un número utilizando grupos de 10 unidades.

$$\begin{array}{r} 10 + 10 + 10 + \\ \hline 30 \end{array} + \begin{array}{r} 5 \\ \hline 5 \end{array} = 35$$
$$\begin{array}{r} 30 \\ \hline 30 \end{array} + \begin{array}{r} 5 \\ \hline 5 \end{array} = 35$$

1. Observa cada representación y completa.

a.

$$\begin{array}{r} 20 \\ \hline 20 \end{array} + \begin{array}{r} 4 \\ \hline 4 \end{array} = 24$$

b.

$$\begin{array}{r} \\ \hline \end{array} + \begin{array}{r} \\ \hline \end{array} = $$

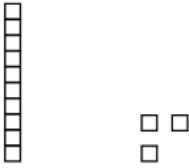
c.

$$\begin{array}{r} \\ \hline \end{array} + \begin{array}{r} \\ \hline \end{array} = $$

d.

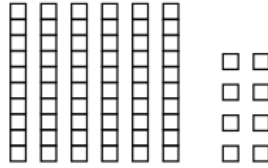
$$\begin{array}{r} \\ \hline \end{array} + \begin{array}{r} \\ \hline \end{array} = $$

e.



$$\underline{\quad} + \underline{\quad} = \underline{\quad}$$

f.




$$\underline{\quad} + \underline{\quad} = \underline{\quad}$$

2.

Representa cada número utilizando grupos de 10 unidades y complete.

a.

28



$$\underline{20} + \underline{8} = \underline{28}$$

b.

31

$$\underline{\quad} + \underline{\quad} = \underline{\quad}$$

c.

45

$$\underline{\quad} + \underline{\quad} = \underline{\quad}$$

d.

27

$$\underline{\quad} + \underline{\quad} = \underline{\quad}$$

e.

36

$$\underline{\quad} + \underline{\quad} = \underline{\quad}$$

f.

67

$$\underline{\quad} + \underline{\quad} = \underline{\quad}$$