




**Guía 3 de Historia, geografía y sociales 2º año A**  
Prof: Marcela Martínez Galaz


Nombre:		
<b>Meta:</b> Leer y dibujar planos simples de su entorno, utilizando puntos de referencia, categorías de posición relativa y simbología pictórica. <b>O.A:</b> 6	<b>Curso:</b>  2º A	<b>Fecha:</b> marzo  Semana 3



Recuerda que el año pasado, ya estudiamos los planos, vamos a recordar y luego a trabajar.

### ¿Qué son los planos?

Un plano es un dibujo de un lugar y sus objetos mirados desde arriba.



A) ¿A qué lugar crees que corresponde este plano?




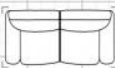




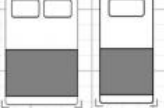

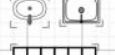

---

B) Describe el lugar, de acuerdo a lo que observas o ves (usa comas para enumerar lo que ves.)

---







---

TODOS LOS PLANOS NECESITAN TENER UNA SIMBOLOGÍA, QUE NOS PERMITE ORIENTARNOS MEJOR.  
 LA SIMBOLOGÍA NOS MUESTRAN LOS LUGARES U OBJETOS DE LOS PLANOS.

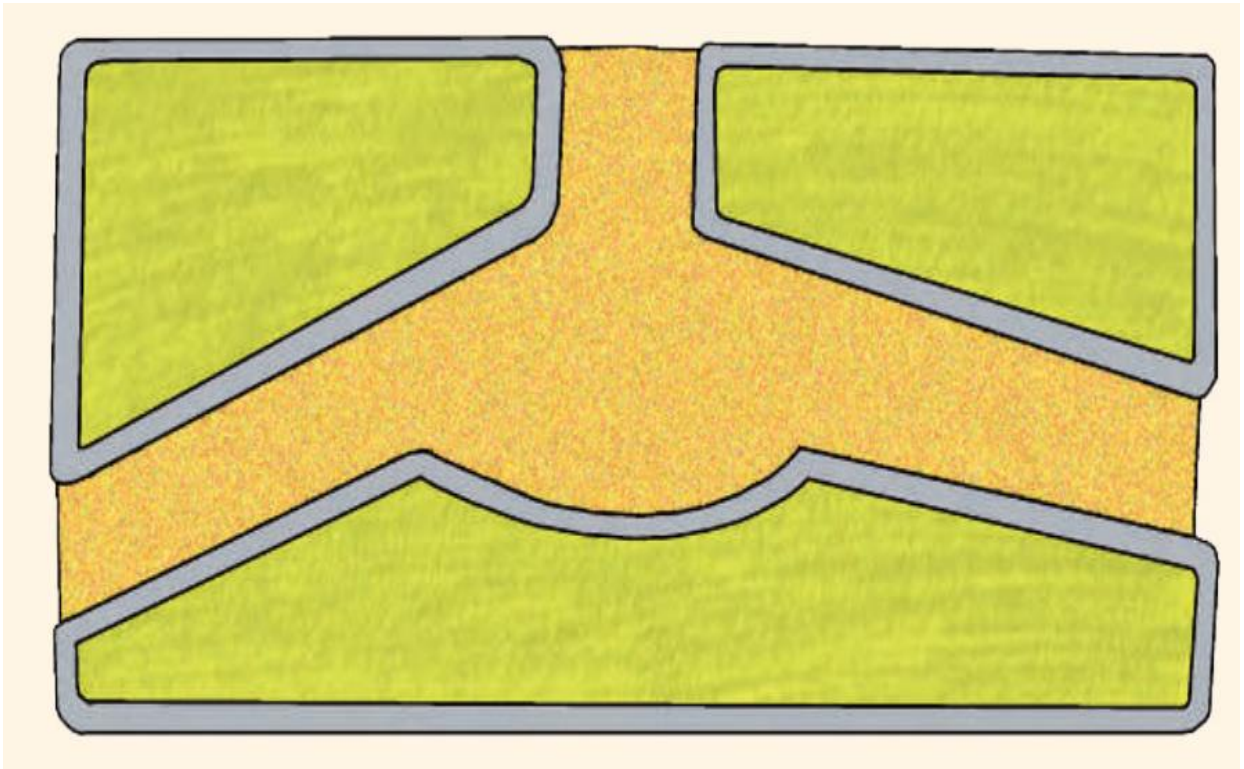
Ejs:		Estufa a gas		Silla
		Estufa electrica		Sofa
		Nevera		Mesa cuadrada
		Lavadora		Mesa circular
		Cama doble y sencilla		Sanitario
				Lavamanos
				Escaleras

1.-Observa el plano y completa siguiendo el ejemplo.



	Sillón		_____
	_____		_____
	_____		_____

2.-El siguiente plano muestra una plaza en construcción. Recorta los elementos que se ubican en la parte inferior de la hoja y luego ubícalos donde tú quieras, para crear tu plaza ideal. (Si no puedes imprimir, dibújalos en tu cuaderno)



Responde.

a) Observa el plano de tu plaza ideal y responde usando las palabras **delante**, **atrás**, **cerca**, **lejos**, **derecha**, **izquierda**.

\*¿Dónde están los juegos?

---

\*¿Dónde ubicaste el basurero?

---

\*¿En qué parte esta la banca?, ¿y el árbol?

---

