



Guía 1 de Matemática 2º año A
Prof: Marcela Martínez Galaz

Nombre:		
Meta: Realizar actividades de conteo y adiciones utilizando monedas.	Curso:	Fecha: marzo
O.A: 2 -5	2º A	Semana 1

I.-Lee en forma independiente y luego responde, si necesitas ayuda pídele a un adulto que te apoye. Responde en tu cuaderno y si quieres las imprimes.

1. Complete en el espacio señalado tal como se muestra en el ejemplo:

1.-



70

setenta



2.-



3.-




4.-



5.-




2.-Observa y completa de la misma manera:




70 + 9 = 79

a.




+ =

b.



+ =

c.





+ =

Diego tiene estas monedas. ¿Cuántas monedas tiene de cada una?



Completa la tabla:

MONEDAS	CANTIDAD DE DINERO
	
	

¿Cuánto dinero tiene en total Diego?

Respuesta:

.....