




MATEMATICA-SEGUNDOSAB-OA17-GUIA6-SEMANA6

Guía de Matemática 2° año A y B

Prof.: Marcela Martínez Galaz

Nombre:	Curso:	Fecha:
Objetivo de la clase: Nombrar los días de la semana y meses del año, ordenando y reconociendo fechas importantes del calendario. OA: Identificar días, semanas, meses y fechas en el calendario.	2 año A-B	Semana 6



Las semanas anteriores hemos trabajado con números del 1 al 100, contando, ordenando, secuenciando y reconociendo números dados.

Hoy trabajaremos con algo que es muy importante, como identificar la semana y los meses del año. Esto lo trabajamos en 1° básico, pero en 2° nuevamente lo tendrás que estudiar.

La Semana está formada por 7 días, generalmente 5 días de trabajo y 2 de descanso.



lunes martes miércoles jueves viernes sábado domingo

Durante la semana las personas pueden realizar diversas actividades como: trabajar, estudiar, practicar algún deporte, etc.

El Año está formado por 12 meses y 365 días. Durante el año tenemos 4 estaciones (verano-otoño-invierno-primavera) y fechas importantes de recordar. (mes del mar, fiestas patrias, navidad, fiestas religiosas, batallas, combates, entre otras).

Los meses del año son: enero-febrero-marzo-abril-mayo-junio-julio-agosto-septiembre-octubre-noviembre-diciembre.

2020

ENERO							FEBRERO							MARZO						
D	L	M	M	J	V	S	D	L	M	M	J	V	S	D	L	M	M	J	V	S
			1	2	3	4						1								
5	6	7	8	9	10	11	2	3	4	5	6	7	8	8	9	10	11	12	13	14
12	13	14	15	16	17	18	9	10	11	12	13	14	15	15	16	17	18	19	20	21
19	20	21	22	23	24	25	16	17	18	19	20	21	22	22	23	24	25	26	27	28
26	27	28	29	30	31	23	24	25	26	27	28	29	29	30	31					

ABRIL							MAYO							JUNIO						
D	L	M	M	J	V	S	D	L	M	M	J	V	S	D	L	M	M	J	V	S
			1	2	3	4					1	2			1	2	3	4	5	6
5	6	7	8	9	10	11	3	4	5	6	7	8	9	7	8	9	10	11	12	13
12	13	14	15	16	17	18	10	11	12	13	14	15	16	14	15	16	17	18	19	20
19	20	21	22	23	24	25	17	18	19	20	21	22	23	21	22	23	24	25	26	27
26	27	28	29	30	24	25	26	27	28	29	30	28	29	30						
							31													

JULIO							AGOSTO							SEPTIEMBRE						
D	L	M	M	J	V	S	D	L	M	M	J	V	S	D	L	M	M	J	V	S
			1	2	3	4					1			1	2	3	4	5		
5	6	7	8	9	10	11	2	3	4	5	6	7	8	6	7	8	9	10	11	12
12	13	14	15	16	17	18	9	10	11	12	13	14	15	13	14	15	16	17	18	19
19	20	21	22	23	24	25	16	17	18	19	20	21	22	20	21	22	23	24	25	26
26	27	28	29	30	31	23	24	25	26	27	28	29	27	28	29	30				
							30	31												

OCTUBRE							NOVIEMBRE							DICIEMBRE						
D	L	M	M	J	V	S	D	L	M	M	J	V	S	D	L	M	M	J	V	S
				1	2	3	1	2	3	4	5	6	7			1	2	3	4	5
4	5	6	7	8	9	10	8	9	10	11	12	13	14	6	7	8	9	10	11	12
11	12	13	14	15	16	17	15	16	17	18	19	20	21	13	14	15	16	17	18	19
18	19	20	21	22	23	24	22	23	24	25	26	27	28	20	21	22	23	24	25	26
25	26	27	28	29	30	31	29	30	27	28	29	30	31							



Si tienes acceso a internet ingresa a la siguiente página y canta la canción de los meses del año.

Meses del Año Cantando Aprendo a Hablar

... <https://www.youtube.com/watch?v=NEyIY1Ufx94>

De lo contrario repite en voz alta los meses del año sin equivocarte.

enero-febrero-marzo-abril-mayo-junio-julio-agosto-septiembre-octubre-noviembre - diciembre.

Actividades

Instrucciones: responda en la guía, de lo contrario copia en tu cuaderno de matemática y luego desarrolla las preguntas.

1. Observe el siguiente calendario y responda:

Mayo						
Lunes	Martes	Miércoles	Jueves	Viernes	Sábado	Domingo
		1		3	4	
					11	12
13	14	15	16	17	18	19
20	21	22	23	24	25	26
27	28	29	30	31		


a) Complete los días que le faltan en el calendario, con un lápiz de color

b) ¿Qué nos comunica o nos dice este calendario?


c) ¿Cómo está formado un calendario?

d) Marque con una X en el calendario con rojo todos los sábados y domingos y con otro color los días que asisten a clases en un mes dado. ¿Cuántos días va al colegio?

2.- Ordene los siguientes hechos históricos según el orden de los meses. Escríbalos en el espacio dado.



3.-De acuerdo a los siguientes meses del año complete cada oración.



a) El mes que más me gusta es:

b) Los meses que faltan para completar el año son:

c) ¿Qué recordamos en las siguientes fechas? (pide ayuda a un adulto).

*01 de mayo: _____

*21 de mayo: _____

*18 de septiembre: _____

*25 de diciembre: _____

4.-La siguiente imagen representa una parte de una agenda



a) ¿Qué días faltan en la imagen?

b) ¿Cuál es el día que más le gusta?

c) Escriba en ella las actividades que debe usted realizar en estos días (los días que a ti te gustan).



Cuídate para que nos volvamos a encontrar.