




Guía 5 de Historia, geografía y sociales 2º año A
Prof: Marcela Martínez Galaz

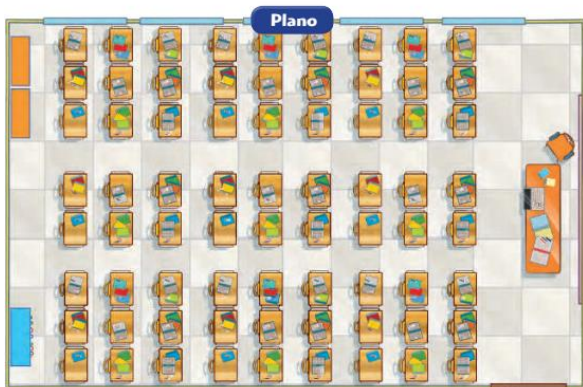
Nombre:		
Meta: Ubicar Chile en el planisferio y en el mapa de América del Sur. O.A: 7	Curso: 2º A	Fecha: marzo Semana 5



Hoy recordaremos lo trabajado en las guías anteriores y conocerás la ubicación de Chile en el planisferio.




Amigo, recuerda que un plano es un dibujo de un lugar mirado desde arriba y cada plano tiene sus propios símbolos que nos sirven para representar los diversos objetos que aparecen en el. Para orientarnos podemos utilizar la ROSA DE LOS VIENTOS



PLANO



ROSA DE LOS VIENTOS



Para iniciar el trabajo de hoy, recuerda que en 1° básico conociste la diferencia entre un globo terráqueo y un planisferio. Además, algunos datos importantes de tu país.



Globo Terráqueo



Representa la forma de la Tierra (**ovalada**).



Planisferio



Representación **plana** de la Tierra.



En estas hermosas representaciones se encuentra nuestro querido país.



Mi país es **CHILE**

Se ubica en **AMÉRICA DEL SUR**

Su capital es **SANTIAGO**

Sus costas son bañadas por el **océano Pacífico**

Chile en el mundo



Si te fijas en el mundo existen 6 continentes y 5 océanos.

***Continentes:** América, Asia, Antártida, Oceanía, Europa y África.

***Océanos:** Pacífico, Atlántico, Índico, Austral, y Glacial Ártico.



CHILE se ubica en América del Sur y limita con diversos países.

Completa:

*norte: _____ / sur: _____

*este: _____ / oeste: _____

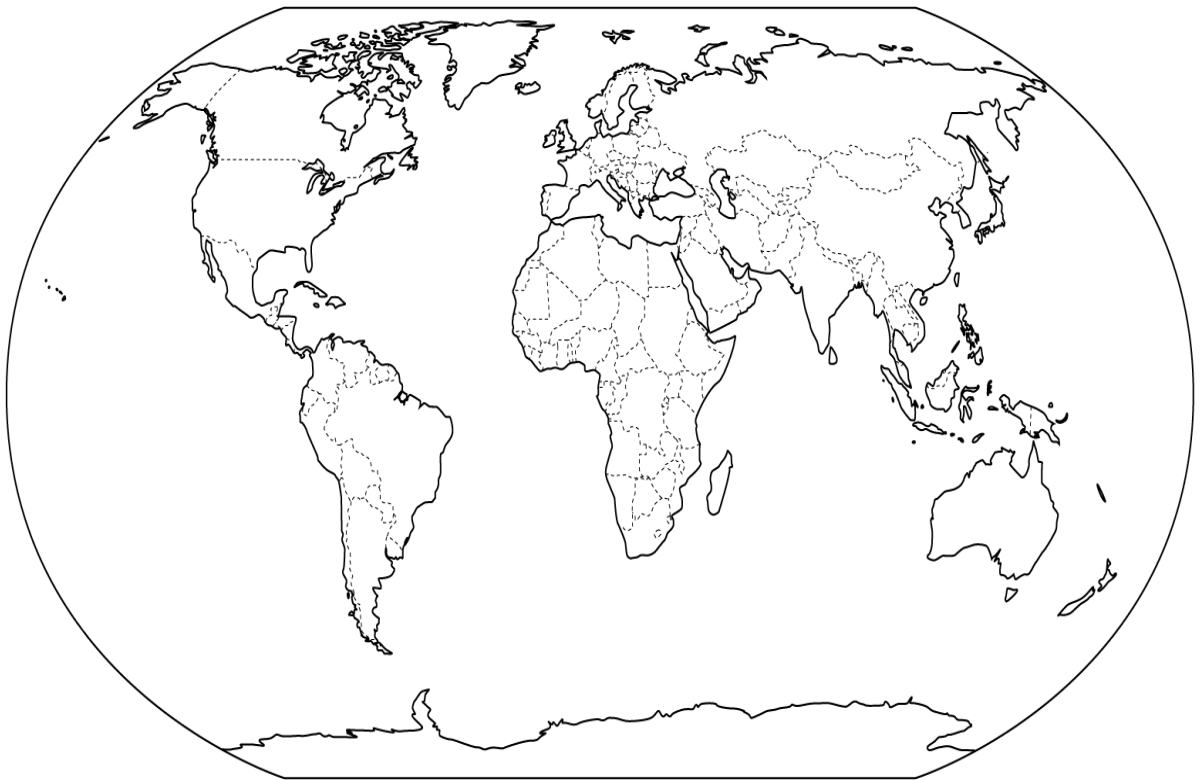
Instrucciones:

1.- En el siguiente planisferio ubica lo que te indicaré. (si no puedes imprimir trata de dibujar la silueta del mapamundi en tu cuaderno y responde, no es necesario que te quede igual).

* Pinta de rojo la ubicación de Chile, en el planisferio.

*Encierra América del sur.

*Pinta de azul el océano que baña sus costas.



2.- Recuerda, nombra los continentes y océanos. Luego escríbelos en tu cuaderno o en la guía.

Continentes

Océanos