

MATEMÁTICAS-PrekínderAB-OA6- Guía24-Semana25

Educadora: Ximena Camus G.

Ámbito: Interacción y comprensión del Entorno

Núcleo: Pensamiento Matemático

Objetivo de la clase: Emplear los números para comparar cantidades, en un ámbito numérico del 1 al 10 usando signos mayor, menor e igual que.

OA 6. Emplear progresivamente los números, para contar, identificar, cuantificar y comparar cantidades, hasta el 10 e indicar orden o posición de algunos elementos en situaciones cotidianas o juegos.

Contenido: Cuantificar y Comparar cantidades .

Habilidad: Identificar-Relacionar.

Fecha: Semana 5 al 9 de Octubre.

1. NOMBRE:

2. CURSO: PREKÍNDER

Marca solo un óvalo.

PREKÍNDER A

PREKÍNDER B

Retroalimentación: En la guía anterior aprendimos a comparar cantidades, descubriendo donde había más cantidad.

En la casa de mi Tío Andrés, hay muchas flores cuando sale el sol las mariposas despiertan y van a saludar a las flores.

¿Cómo sabrá mi tío Andrés si hay más flores o mariposas? Si, las va a contar y descubrirá que hay más cantidad de flores:



Antes de comenzar la guía, observarás el video: Relacionaremos número con mayor cantidad y menor cantidad.



<http://youtube.com/watch?v=DNJDmzEyJD8>

El Cocodrilo Dante vive en un río siempre se come donde hay mayor cantidad de comida. Además le gusta ir a jugar con los pollitos, esta vez descubrió que una gallina tiene mayor cantidad de pollitos, abrió su boca y dijo ¡Ah, esta gallina tiene mayor número de pollitos. EL COCODRILO DANTE SIEMPRE ABRE SU BOCA AL GRUPO CON MAYOR CANTIDAD



¡Hola! Soy el Cocodrilo Dante


Dante es un cocodrilo, que le gusta comer y busca el número mayor, se pone muy contento.

Dante, le gusta jugar donde están los pollitos, con sus mamás las gallinas; hay una gallina que tiene 3 pollitos y otra que tiene 5 pollitos.

¿Qué gallina descubrió Dante que tiene mayor número de pollitos?



3 Pollitos.



5 Pollitos.

Si, el Cocodrilo Dante abrió su boca para mostrar que donde hay 5 pollitos es la gallina que tiene mayor cantidad de pollitos.

3. ¿Cómo supo Dante dónde había mayor número de pollitos?

Andrés y el Cocodrilo Dante, quieren comer naranjas, Andrés descubre que hay dos árboles con naranjas ¿ Cómo habrán descubierto el árbol que corresponde al número mayor?

Andrés y su amigo el cocodrilo Dante fueron a la huerta de su casa donde hay árboles frutales, Andrés busca los Naranjos.



Descubre dos árboles con muchas naranjas, pero, no sabe en qué árbol hay más cantidad de naranjas ¿Cómo podemos ayudarlo?

1° Contamos las naranjas que hay en cada árbol

2° Dante se comerá con Andrés las naranjas del árbol con el número mayor.




Hay 6 Naranjas.




Hay 3 Naranjas.


Trabajo en el cuaderno en este desafío descubrirás ¿Quién tiene mayor número de perritos Andrés o Pepe? cuando resuelvas cual es el número mayor dibujarás la boca abierta de Dante hacia el número mayor.

Entonces, si vemos la cinta numérica del 1 al 10 nos daremos cuenta que los números que están hacia la derecha siempre es mayor se relaciona con más cantidad:




Izquierda







Derecha




1	2	3	4	5	6	7	8	9	10
---	---	---	---	---	---	---	---	---	----

Andrés tiene 2 perros y Pepe tiene 5 perritos ¿Quién tiene mayor número de perritos?





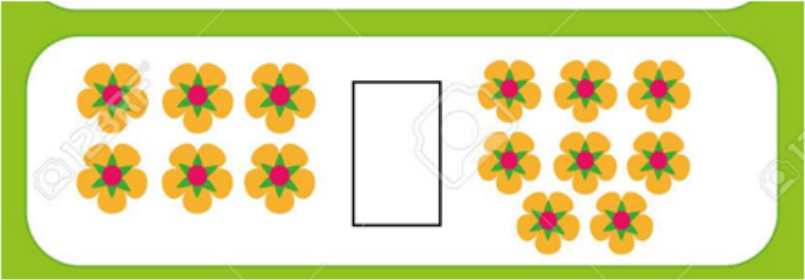


El Cocodrilo Dante le dirá a su amigo donde hay mayor número de perritos

Ocuparemos este signo 

Resuelve este nuevo desafío: Cuenta las flores y descubre donde está el mayor número de flores.

Entonces, si vemos la cinta numérica del 1 al 10 nos daremos cuenta que los números que están hacia la derecha siempre es mayor se relaciona con más cantidad:

4. ¿Qué número indica donde hay mayor cantidad de flores?

Marca solo un óvalo.

Donde hay 6 flores.




Donde hay 8 flores.

Resuelve este nuevo desafío:

TICKET DE SALIDA:

Rosita y Anita son amigas fueron al parque a jugar con sus globos ¿Quién tiene el mayor número de globos Rosita o Anita?

Debes contar los globos que tiene cada una y descubrir quien tiene el mayor número de globos.

5. ¿ Qué nos muestra la boca abierta del cocodrilo Dante?

Materiales: Cuaderno, lápiz de mina, video-.Esta actividad la harás en el cuaderno y en la guía. La persona que aplique esta actividad con el alumno(a) deberá describir la manera en que la abordó. Practica en tu cuaderno dibujando el símbolo que aprendiste.



Este contenido no ha sido creado ni aprobado por Google.

Google Formularios