

Guía de Matemáticas PrekAB

Educadora: Ximena Camus G.

Ámbito: Interacción y comprensión del Entorno

Núcleo: Pensamiento Matemático

Objetivo de la clase: Reconocer figuras geométricas como el rectángulo, sus características y su forma a través de imágenes, videos y observación del medio.

OA 2. Experimentar con diversos objetos, estableciendo relaciones según su: (forma, color, entre otros) y seriar por altura o longitud.

Fecha: Semana 27 al 31 de Julio.

1. NOMBRE:

2. CURSO:

Marca solo un óvalo.

PREKÍNDER A

PREKÍNDER B

Que aprendimos la guía anterior:




CONOCIMOS EL TRIÁNGULO

Tiene 3 lados y me puedes dibujar con 3 líneas rectas

En tu entorno, me encuentras en el techo de una casa,
Vestido de una niña, un pino en el bosque, el trozo de una pizza.



Observa el video, "Hagamos rectángulos. Dentro y fuera: del rectángulo", antes de comenzar la guía:



<http://youtube.com/watch?v=Dt4rKaFV03U>

3. Adivina buen adivinador, tengo 4 líneas-Si me buscas estoy en una puerta-una tablet ¿ Ya sabes quién soy? ¡¡BIEN!!

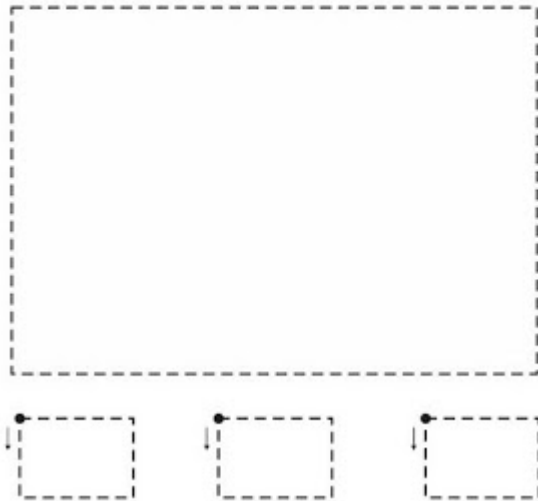
¡Si! Soy "El Rectángulo"



Actividad en el Cuaderno: Como viste en el video, pega tiras de colores en cada línea del rectángulo, pega papel picado dentro de la figura. Los rectángulos que están debajo une los puntos con tu lápiz y los pintas de diferentes colores.

RECTÁNGULO

• Repasa por las líneas punteadas.



Trabajo en la Tablet: "Se cae el muro", vas a ubicar la posición del rectángulo, para saber donde debe estar el monito rosado para que no sea aplastado.

Vamos a aplicar lo aprendido, tienes que fijarte donde está ubicado el espacio del muro para que el monito rosado y el gusanito no sean aplastados.

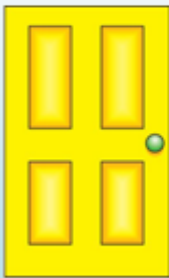
Anímate-¡Muy Bien!



Observa los 3 dibujos, cada uno tiene una forma distinta y debajo tiene un número: La puerta tiene el N°1, el reloj el N°2, el pino el N°3.- Marca con una X lo que es correcto(el adulto que te apoya leerá las instrucciones).

Ticket de Salida:

Observa los 3 dibujos, ¿Cuál de ellos tiene la forma de un rectángulo?



1



2



3

4. ¿ Qué dibujo, tiene la forma de un rectángulo? Marca con una X lo correcto.

Marca solo un óvalo.

- El dibujo N°3
- El dibujo N°1
- El dibujo N°2

Materiales: Cuaderno, Tablet, lápices de color, lápiz de mina, papel picado, 4 tiras de papel, video. Las actividades según las instrucciones deben quedar en el cuaderno. La persona que aplique esta actividad con el alumno(a) Deberá describir la manera en que abordó y la desarrolló.



Este contenido no ha sido creado ni aprobado por Google.

Google Formularios