

# MATEMÁTICAS-KínderAB-OA6-Guía24-Semana25

Educadora: Ximena Camus G.

Ámbito: Interacción y comprensión del Entorno

Núcleo: Pensamiento Matemático.

Objetivo de la clase: Emplear los números para comparar cantidades, en un ámbito numérico del 1 al 20 usando signos mayor, menor e igual que.

OA 6. Emplear los números, para contar, identificar, cuantificar y comparar cantidades hasta el 20 e indicar orden o posición de algunos elementos en situaciones cotidianas o juegos.

Contenido: Cuantificar y Comparar cantidades .

Habilidad: Identificar-Relacionar.

Fecha: Semana 5 al 9 de Octubre.

1. NOMBRE:

---

2. CURSO: KÍNDER

*Marca solo un óvalo.*

KÍNDER A


KÍNDER B

Retroalimentación: En la guía anterior aprendimos a comparar cantidades, descubriendo donde había más cantidad.

En la casa de Mimí hay muchas flores, con su amiga Lili regaron las flores  
¿Quién regó más cantidad de flores Mimí o su amiga Lili?

Para saber quien regó más cantidad de flores debes contar las flores que regaron Mimí y Lili.

Mimí regó 1 flor




Lili regó 4 flores



¡Muy bien! Lili regó más cantidad de flores.

Antes de comenzar la guía, observarás el video: Relacionaremos número con mayor cantidad y menor cantidad.



<http://youtube.com/watch?v=cjWgNI8Cw5o>

El Cocodrilo Dante vive en un río siempre se come donde hay mayor cantidad de comida  
 ¿ Qué hizo Dante cuándo vio que habían peces en el río? buscó donde había mayor  
 cantidad de peces y se los comió. El cocodrilo Dante SÓLO ABRE SU BOCA DONDE HAY  
 MÁS



**¡Hola! Soy el Cocodrilo Dante**

Dante es un cocodrilo, que le gusta comer, siempre tiene mucha hambre, y busca el número mayor, se pone muy contento.

Dante, vive cerca de un río con muchos peces, un día jugando vio a la orilla del río 3 peces y en el agua nadando juntitos 7 peces.

¿Qué grupo de peces crees que se comió Dante?



7 Peces



3 Peces

**Si, el Cocodrilo Dante se comió el número mayor de Peces, los 7 peces.**

3. ¿Cómo puedes saber donde está el número mayor de peces?

---

Andrés y el Cocodrilo Dante, quieren comer manzanas, Andrés descubre que hay dos árboles con manzanas; Cómo sabrán cual es el árbol que tiene el número mayor de manzanas? ...Si, contando las manzanas de cada árbol.

**Andrés y su amigo el cocodrilo Dante fueron a la huerta de su casa donde hay árboles frutales, Andrés busca los Manzanos.**



**Descubre dos árboles con muchas manzanas, pero, no sabe en qué árbol hay más cantidad de manzanas ¿Cómo podemos ayudarlo?**

**1º Contamos las manzanas que hay en cada árbol**

**2º Dante se comerá con Andrés las manzanas del árbol con el número mayor.**




**Hay 7 Manzanas.**




**Hay 10 Manzanas.**

Trabajo en el cuaderno en este desafío descubrirás ¿Quién tiene mayor número de dulces Andrés o Pepe? cuando resuelvas cual es el número mayor dibujarás la boca abierta de Dante hacia el número mayor.


Entonces, si vemos la cinta numérica del 1 al 20 nos daremos cuenta que los números que están hacia la derecha siempre es mayor se relaciona con más cantidad:




Izquierda




Derecha





1	2	3	4	5	6	7	8	9	10
11	12	13	14	15	16	17	18	19	20




Andrés tiene 8 dulces y Pepe tiene 15 dulces ¿Quién tiene mayor número de dulces?












El Cocodrilo Dante le dirá a su amigo donde hay mayor número de perritos




Ocuparemos este signo

Resuelve este nuevo desafío: Cuenta las lunas y descubre donde está el mayor número de lunas.

Entonces, si vemos la cinta numérica del 1 al 20 nos daremos cuenta que los números que están hacia la derecha siempre es mayor se relaciona con más cantidad:

1	2	3	4	5	6	7	8	9	10
11	12	13	14	15	16	17	18	19	20



4. ¿ Qué número indica que hay mayor cantidad de lunas?

*Marca solo un óvalo.*

- Donde hay 6 lunas.
- Donde hay 9 lunas.
- Donde hay 12 lunas.

Resuelve este nuevo desafío:

**TICKET DE SALIDA:**

Estos dos grupos de amigos se juntaron para que les tomaran una foto; ¿En qué grupo hay mayor cantidad de personas donde están los niños o donde están los más grandes?

Debes contar cada grupo y descubrir en qué lado está el número mayor de personas.



5. ¿Qué indica la boca abierta del cocodrilo Dante?

---

Materiales: Cuaderno, lápiz de mina, video-. Esta actividad la harás en el cuaderno y en la guía. La persona que aplique esta actividad con el alumno(a) deberá describir la manera en que la abordó. Practica este signo en el cuaderno, dibújalo. Puedes ponerle los dientes del cocodrilo.



# Google Formularios