

MATEMÁTICAS-KínderAB-OA6-Guía20-Semana20

Educadora: Ximena Camus G.

Ámbito: Interacción y comprensión del Entorno

Núcleo: Pensamiento Matemático.

Objetivo de la clase: Emplear los números para resolver problemas simples de suma, en un ámbito numérico del 1 al 10.

OA 6. Emplear los números, para contar, identificar, cuantificar y comparar cantidades hasta el 20 e indicar orden o posición de algunos elementos en situaciones cotidianas o juegos.

Contenido: Cuantificar y Resolver problemas simples.

Habilidad: Identificar-Relacionar.

Fecha: Semana 24 al 28 de Agosto.

1. NOMBRE:

2. CURSO: KÍNDER

Marca solo un óvalo.

KÍNDER A

KÍNDER B

Retroalimentación: ¿Qué aprendimos la guía anterior?

La Guía anterior aprendimos a contar colecciones del número 1 al 20:



Antes de comenzar- te invito a observar el video: "PROBLEMAS DE AGREGAR PREESCOLAR" : Números del 1 al 10



<http://youtube.com/watch?v=1vXgjuYSbWE>

¿Saben quién es?- Sí; es el "Hada Mágica"

¡Hola ¡ soy el hada mágica, vivo en el mundo de los números,

¿Quieres saber porque vine? Necesito resolver un problema, de donde vengo hay muchos números, cuando los números tenían que hacer una fila y ponerse en orden, uno de los números se quedó jugando y no llegó a la fila-no lo pude encontrar-

Debe estar escondido ¿me ayudas a encontrarlo? ¡BIEN!




El "Hada Mágica debe encontrar el número escondido:

¿Me puedes ayudar a resolver este desafío?

El número que salió a jugar se escondió, encontró una mariquita con muchas pintitas en sus alas- y se paró entre 2 números- pensó- aquí nadie me va a encontrar.

Pero él no sabe que están ustedes los niños(as), que lo van a encontrar.

¿Cómo resolverás este desafío, cuál será el número que se escondió?



3. ¿Cómo podrá el Hada Mágica encontrar el número escondido?

4. El número escondido en la mariquita es, marca con una X

Marca solo un óvalo.

El número 9

El número 7

El Desafío para encontrar el número perdido es Sumar o Agregar para saber cuantos gatitos tiene mi tío Andrés. Pon atención como supo cuantos gatitos tiene:

Después de haber resuelto el desafío del Hada Mágica-

Hay otro desafío que debes resolver- En la casa de mi Tío Andrés, hay muchos Gatitos

-7 gatitos muy contentos están jugando- después llegan 2 gatitos con mucho sueño

¿Cuántos gatitos tiene mi Tío Andrés?- ¿Qué debes hacer?

Hay 7 Gatitos agregamos 2 Gatitos cuántos son=

$$7 + 2 = 9 \text{ Gatitos}$$



Ahora tú resuelve este nuevo Desafío: ¿Qué debes hacer?-Sumar-contar todas las mariposas.

Ahora debes resolver tú este nuevo desafío:		
<p>Andrés fue al campo donde su abuelo, en el camino encontró 3 Mariposas jugando cerca de una flor</p> 	<p>Después llegaron 8 mariposas a jugar con la flor.</p> 	<p>¿Cuántas mariposas son, las que llegaron a jugar con la flor?</p>

5. ¿Cuántas mariposas hay cerca de la flor?

Marca solo un óvalo.

- 8 Mariposas
- 11 Mariposas.

Trabajo en el cuaderno: El adulto lee, las instrucciones para que su hijo(a) resuelva el desafío.

Trabajo en Casa:

Busca 6 platos chicos ponlos uno al lado del otro-ahora Agrega la misma cantidad de platos grandes.- ¿Cuántos platos tengo?





Tengo 5 cucharitas **agrego** ____ cucharas grandes = en total son ____ cucharas.

6 Platos **+** ____ platos grandes-cuántos platos son ____

Que aprendimos: Resolver problemas de Agregar o Sumar, resuelve este nuevo desafío:

Ticket de Salida:

<p>¿Conoces las abejas?</p> <p>6 abejas salieron a jugar</p> 	<p>Llegó otro abejita, y les preguntó ¿Puedo jugar?</p> 	<p>¿Cuántas abejas están jugando?</p> <p>¿Qué debes hacer?</p> <p>Sumar-¿Cuántas abejas se juntaron a jugar?</p>
--------------------------------------------------------------------------------------------------------------------------------------------------	---------------------------------------------------------------------------------------------------------------------------------------------	------------------------------------------------------------------------------------------------------------------

6. ¿Cuántas abejas se juntaron a jugar? - Marca con una X cuantas abejas son: El adulto lee y el niño(a), marca cuantas abejas son:

Marca solo un óvalo.

- 8 abejas.
- 7 abejas
- 10 abejas.

Trabajo en la tablet:



Materiales: Cuaderno, Tablet NT2, cucharas, lápiz de mina, video-.Esta actividad la harás en el cuaderno y en la guía. La persona que aplique esta actividad con el alumno(a) deberá describir la manera en que la abordó.



Este contenido no ha sido creado ni aprobado por Google.

Google Formularios