



HISTORIA-SEPTIMOSAB-OA3OA5-GUIA11-SEMANA11
 Guía de Historia, Geografía y Ciencias Sociales 7º año A y B
 Profesor: Roberto Manuel Olave Apablaza

Nombre:	Curso:	Fecha:
Objetivo de la clase: Identificar la ubicación espacial de la civilización griega en torno al mar Mediterráneo, por medio de mapas.	7 Año A-B	Semana 11
OA3 Caracterizar el surgimiento de las primeras civilizaciones (por ejemplo: sumeria, egipcia, china, india, minoica, fenicia, olmeca y chavín, entre otras), reconociendo que procesos similares se desarrollaron en distintos lugares y tiempos.		
OA5: Caracterizar el mar Mediterráneo como ecúmene y como espacio de circulación e intercambio, e inferir cómo sus características geográficas (por ejemplo, clima, relieve, recursos naturales, entre otros) influyeron en el desarrollo de la ciudad - Estado griega y de la república romana.		

¿QUÉ CARACTERÍSTICAS DEL MAR MEDITERRÁNEO PERMITIERON QUE SURGIERAN GRANDES CIVILIZACIONES?

RETROALIMENTACIÓN:

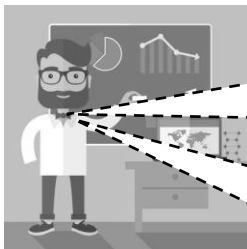


Hola Niños y Niñas: Espero se encuentren bien! **¿Recuerdas que en la guía anterior retroalimentamos la evaluación formativa 1, sobre los tiempos primitivos?** Vimos desde la aparición del ser humano, paleolítico, neolítico y el origen de las primeras ciudades.


Recuerda que... Los la evolución humana tardó millones de años hasta ser lo que somos hoy en día, homo sapiens - sapiens. Un ser humano dotado de razón e inteligencia.



CONTENIDO:



Niños (as): Hoy, trataremos de dar respuesta a la pregunta inicial de la guía 11 **¿Qué características del mar mediterráneo permitieron que surgieran grandes civilizaciones?** Vamos a identificar el origen espacial de la civilización griega y algunas características del Mediterráneo.

 También puedes complementar voluntariamente este contenido observando un entretenido video adjunto, **hasta el minuto 5**, pincha el siguiente link:
<https://www.youtube.com/watch?v=nB10-5H5L2c>


HISTORIA-SEPTIMOSAB-OA3OA5-GUIA11-SEMANA11

Guía de Historia, Geografía y Ciencias Sociales 7° año A y B

Profesor: Roberto Manuel Olave Apablaza

CONTENIDO:



 Puedes apoyarte voluntariamente en el texto digital de Historia, desde la página 72 hasta la página 74. Descarga el texto de Historia gratis en el siguiente link: <https://curriculumnacional.mineduc.cl/614/w3->



LA CIVILIZACIÓN GRIEGA:

La civilización griega surgió en la zona oriental del mar Mediterráneo. Se extendió por tres espacios fundamentales: la península de los Balcanes, las numerosas islas de los mares Jónico y Egeo y las costas occidentales de Asia Menor. Los griegos fundaron una serie de colonias a lo largo del Mediterráneo occidental (Ej. en la península Ibérica, sur de Italia, Sicilia, etc), a través de las cuales expandieron su cultura, sentando los cimientos de la civilización occidental.

Bien, ahora debes desarrollar la actividad del ítem 1 y 2. En el primero debes localizar en el mapa, previa ayuda de un atlas, o también del libro de historia. En el segundo debes observar el mapa y responder la pregunta.

¡VAMOS QUE SE PUEDE!

ACTIVIDAD:



ÍTEM 1: Con la ayuda de un atlas y del texto de estudio, complete el mapa adjunto de acuerdo a la información que se pide, puedes ocupar flechas o simbologías:

- A) Localice en el mapa el Mar Mediterráneo, el Mar Egeo, el Mar Jónico y la isla de Creta,
- B) Localice la Península de los Balcanes, la Península del Peloponeso, la Península de Ática.
- C) Localice Asia Menor.
- D) Localice la ciudad de Esparta y Atenas.

Localizar A-B-C-D en este mapa

Sólo observar ubicación de Grecia en Planisferio

