



MATEMÁTICA-TERCEROSAB-OA9-GUIA6-SEMANA6

Guía de **Matemática** 3°A-B

Prof.: José Otárola Cabrera

Nombre:		
Objetivo de clase: Comprender la adición y la sustracción en el ámbito del 0 al 100.	Curso: 3°A-B	Fecha: Semana 6
OA9 (Prerrequisito 2°): Demostrar que comprende la adición y la sustracción en el ámbito del 0 al 100: usando un lenguaje cotidiano y matemático para describir acciones desde su propia experiencia...		

¡RECORDEMOS!

Hola niños(as) en esta oportunidad les invito a recordar lo que sabes sobre la adición y la sustracción.

Ejemplo:

Te cuento que cuando agregas o juntas cantidades estás sumando.

○ ○ ○ ○ ○ ○ ○ ○ ○ ○ → **5 + 5 = 10**

y cuando quitas o sacas una cantidad a otra, estás restando.

○ ○ ○ ○ ○ ~~○~~ ~~○~~ ~~○~~ ~~○~~ → **10 - 5 = 5**



A continuación, observa el siguiente ejemplo:

A) "Felipe compró **5** kilos de azúcar. Si tenía **2**, ¿cuántos kilos tiene ahora?"



Respuesta: *Ahora tiene 7 kilos.*

B) Juana tenía 6 ovejas y vendió 3. ¿Cuántas ovejas le quedan?

	Respuesta:
--	-------------------



C) Ángela tenía 3 muñecas y recibió 3 más para su cumpleaños. ¿Cuántas muñecas tiene ahora?

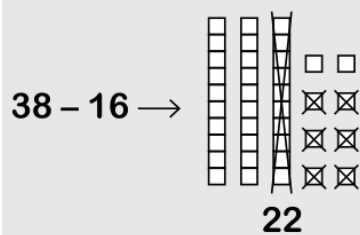
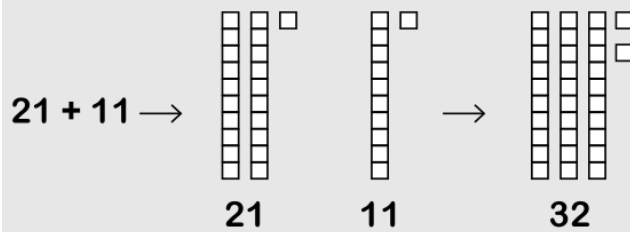
	Respuesta:
--	-------------------

D) Una perrita tuvo 8 crías, 5 de pelaje claro y el resto de pelaje oscuro. ¿Cuántas crías tienen pelaje oscuro?

	Respuesta:
--	-------------------


PON MUCHA ATENCIÓN Y LEE CUIDADOSAMENTE LA INFORMACIÓN QUE TE PRESENTO A CONTINUACIÓN

Observa que puedes sumar y restar representando las cantidades con decenas y unidades:



Ahora que sabemos cómo sumar y restar te invito a resolver la siguiente actividad 😊 Primero, observa el ejemplo:

Ana tenía 16 monedas y le regalaron 12 más. ¿Cuántas monedas tiene en total?



Respuesta: *Tiene 28 monedas en total.*



INSTRUCCIONES: Resuelve los siguientes ejercicios en tu cuaderno o pega la guía en tu cuaderno. Solicita ayuda a un adulto si es necesario, ¡Éxito! 😊

b. María tenía 34 agujas en su costurero y perdió 14. ¿Cuántas agujas le quedan?

Respuesta: _____

c. Inés contó 24 mariposas amarillas y 33 rojas. ¿Cuántas mariposas contó Inés en total?

Respuesta: _____

d. Alejandra horneó 45 galletas y regaló 23 a su mamá. ¿Cuántas galletas le quedaron?

Respuesta: _____

