



EVALUACION- REVISION-FORMATIVA1-MUSICA-SEGUNDOSAB-SEMANA8

EVALUACION FORMATIVA DE MUSICA

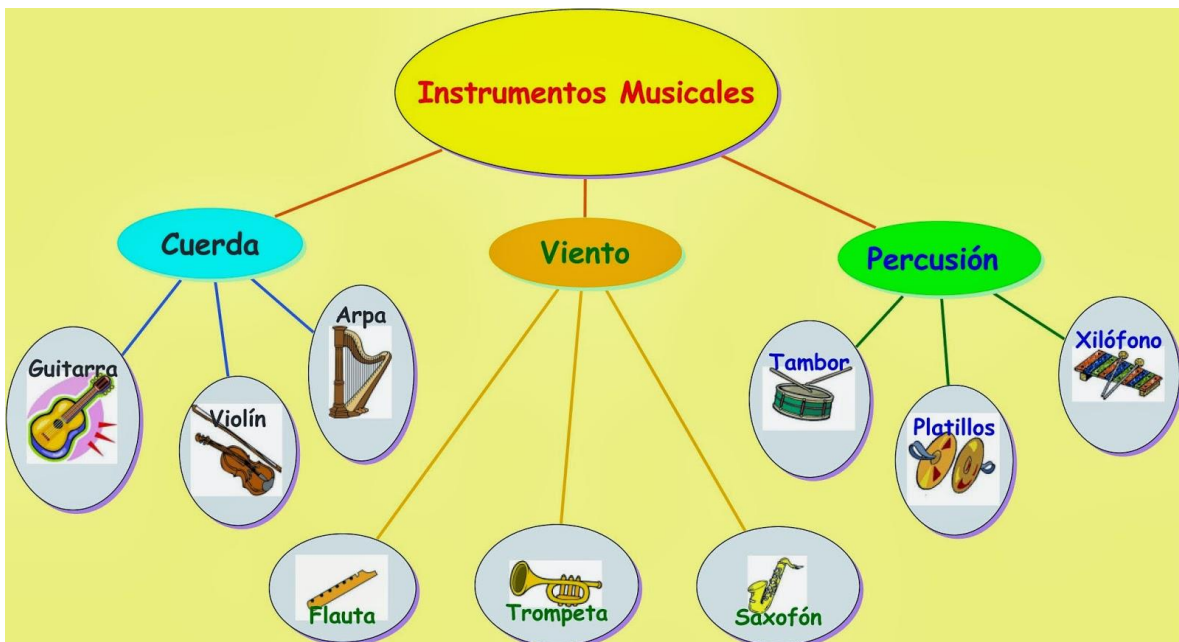
Prof.: Marcela Martínez Galaz

Nombre:	Curso:	Fecha:
Objetivo de la Evaluación: Reconocer y diferenciar la intensidad del sonido a través de la clasificación de instrumentos musicales y estímulos sonoros. OAS: 1	2º Año A-B	Semana 8

Instrucciones

- 1.-Completa los datos generales con letra clara.
- 2.-Lee en forma individual cada pregunta.
- 3.-Responde marcando con una **X** la respuesta correcta.

A partir del mapa conceptual responde las preguntas 1-2-3-4-5-6.



1.-La información que me entrega este mapa conceptual es sobre:

- a) La guitarra, el saxofón y platillos.
- b) Los instrumentos de viento.
- c) La clasificación de los instrumentos musicales.

2.- Según el texto, los instrumentos musicales se clasifican en:

- a) Violín, flauta y tambor.
- b) Arpa, trompeta y xilófono.
- c) Cuerda, viento y percusión.

3.-Algunos instrumentos **de viento**, pueden ser:

a) Tambor, platillos, xilófono.

b) Flauta, trompeta y saxofón.

c) Guitarra, violín y arpa.

4.- El **arpa**, corresponde a un instrumento de:

a) De percusión

b) De viento

c) De cuerda

5.-Cuál de los siguientes instrumentos es de **percusión**.

a) arpa

b) saxofón

c) xilófono

6.-Según el texto, en cuántos grupos se pueden clasificar los instrumentos musicales.

a) 2 grupos

b) 1 grupo

c) 3 grupos

7.- La intensidad nos indica:

a) Solo el mayor volumen con que se produce el sonido.

b) Solo el menor volumen con que se produce el sonido.

c) El mayor y menor volumen con que se produce el sonido.

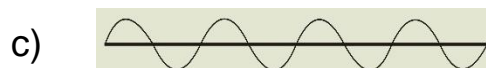

8.- El sonido del **timbre del colegio**, nos indica:

a) mayor intensidad.

b) menor intensidad.

c) mayor y menor intensidad.

9.- Cuál de las siguientes representaciones nos indica la **menor** intensidad del sonido.



10.- El sonido del carro de bombas, corresponde a una intensidad del sonido.

a) **Fuerte**

b) Débil

c) Suave



11.- El canto de los pájaros, corresponde a una intensidad del sonido.

a) **Débil**

b) Fuerte

c) Grave



12.- Entre el sonido de la lluvia y el sonido de la bocina de un auto, ¿cuál de los dos es de menor intensidad?

a) Bocina de auto.

b) **Sonido de la lluvia.**

c) Ninguno de los dos.