




TAREA-REVISION-MATEMATICA-SEGUNDOSAB-OA17-GUIA6-SEMANA6

Guía de Matemática 2° año A y B

Prof.: Marcela Martínez Galaz


Nombre:	Curso:	Fecha:
Objetivo de la clase: Nombrar los días de la semana y meses del año, ordenando y reconociendo fechas importantes del calendario. OA: Identificar días, semanas, meses y fechas en el calendario.	2 año A-B	Semana 6



Las semanas anteriores hemos trabajado con números del 1 al 100, contando, ordenando, secuenciando y reconociendo números dados.

Hoy trabajaremos con algo que es muy importante, como identificar la semana y los meses del año. Esto lo trabajamos en 1° básico, pero en 2° nuevamente lo tendrás que estudiar.

La **Semana** está formada por 7 días, generalmente 5 días de trabajo y 2 de descanso.



lunes martes miércoles jueves viernes sábado domingo

Durante la semana las personas pueden realizar diversas actividades como: trabajar, estudiar, practicar algún deporte, etc.

El Año está formado por 12 meses y 365 días. Durante el año tenemos 4 estaciones (verano-otoño-invierno-primavera) y fechas importantes de recordar. (mes del mar, fiestas patrias, navidad, fiestas religiosas, batallas, combates, entre otras).

Los meses del año son: enero-febrero-marzo-abril-mayo-junio-julio-agosto-septiembre-octubre-noviembre-diciembre.

2020

ENERO

D	L	M	M	J	V	S
			1	2	3	4
5	6	7	8	9	10	11
12	13	14	15	16	17	18
19	20	21	22	23	24	25
26	27	28	29	30	31	

FEBRERO

D	L	M	M	J	V	S
						1
2	3	4	5	6	7	8
9	10	11	12	13	14	15
16	17	18	19	20	21	22
23	24	25	26	27	28	29

MARZO

D	L	M	M	J	V	S
1	2	3	4	5	6	7
8	9	10	11	12	13	14
15	16	17	18	19	20	21
22	23	24	25	26	27	28
29	30	31				

ABRIL

D	L	M	M	J	V	S
			1	2	3	4
5	6	7	8	9	10	11
12	13	14	15	16	17	18
19	20	21	22	23	24	25
26	27	28	29	30		

MAYO

D	L	M	M	J	V	S
					1	2
3	4	5	6	7	8	9
10	11	12	13	14	15	16
17	18	19	20	21	22	23
24	25	26	27	28	29	30
						31

JUNIO

D	L	M	M	J	V	S
			1	2	3	4
5	6	7	8	9	10	11
12	13	14	15	16	17	18
19	20	21	22	23	24	25
26	27	28	29	30		

JULIO

D	L	M	M	J	V	S
			1	2	3	4
5	6	7	8	9	10	11
12	13	14	15	16	17	18
19	20	21	22	23	24	25
26	27	28	29	30	31	

AGOSTO

D	L	M	M	J	V	S
						1
2	3	4	5	6	7	8
9	10	11	12	13	14	15
16	17	18	19	20	21	22
23	24	25	26	27	28	29
30	31					

SEPTIEMBRE

D	L	M	M	J	V	S
			1	2	3	4
5	6	7	8	9	10	11
12	13	14	15	16	17	18
19	20	21	22	23	24	25
26	27	28	29	30		

OCTUBRE

D	L	M	M	J	V	S
				1	2	3
4	5	6	7	8	9	10
11	12	13	14	15	16	17
18	19	20	21	22	23	24
25	26	27	28	29	30	31

NOVIEMBRE

D	L	M	M	J	V	S
1	2	3	4	5	6	7
8	9	10	11	12	13	14
15	16	17	18	19	20	21
22	23	24	25	26	27	28
29	30					

DICIEMBRE

D	L	M	M	J	V	S
			1	2	3	4
5	6	7	8	9	10	11
12	13	14	15	16	17	18
19	20	21	22	23	24	25
26	27	28	29	30	31	



Si tienes acceso a internet ingresa a la siguiente página y canta la canción de los meses del año.

Meses del Año Cantando Aprendo a Hablar

... <https://www.youtube.com/watch?v=NEyIY1Ufx94>

De lo contrario repite en voz alta los meses del año sin equivocarte.

enero-febrero-marzo-abril-mayo-junio-julio-agosto-septiembre-octubre-noviembre -diciembre.

Actividades

Instrucciones: responda en la guía, de lo contrario copia en tu cuaderno de matemática y luego desarrolla las preguntas.

1. Observe el siguiente calendario y responda:

Lunes	Martes	Miércoles	Jueves	Viernes	Sábado	Domingo
		1	2	3	●	●
6	7	8	9	10	●	●
13	14	15	16	17	●	●
20	21	22	23	24	●	●
27	28	29	30	31		

- a) Complete los días que le faltan en el calendario.

- b) ¿Qué nos comunica o nos dice este calendario?

Los días de la semana, el mes del año

- c) ¿Cómo está formado el calendario?

El calendario está formado por días que están representados por números y el mes.

- d) Marque en el calendario con rojo todos los sábados y domingos y con otro color los días que asisten a clases en un mes dado. ¿Cuántos días va al colegio?

Al ser un calendario de mayo los alumnos podrían identificar el feriado del 21 de mayo y sería una instancia importante de recordarles dicho hecho histórico. Los días que va al colegio en este calendario son 22.

Lunes	Martes	Miércoles	Jueves	Viernes	Sábado	Domingo
●	●	●	●	●	●	●
●	●	●	●	●	●	●
●	21	●	●	●	●	●
●	●	●	●	●		

2.-Ordene los siguientes hechos históricos según el orden de los meses.
Escríbalos en el espacio dado.




5 de abril

21 de mayo

18 de septiembre

3.-De acuerdo a los siguientes meses del año complete cada oración.



a) El mes que más me gusta es:

La respuesta a este ítem va a depender de la opción del alumno.

b) Los meses que faltan para completar el año son: febrero, marzo, mayo, junio, agosto, septiembre, noviembre, diciembre.

c) ¿Qué recordamos en las siguientes fechas? (pide ayuda a un adulto).

*01 de mayo: Día del trabajador

*21 de mayo: Combate naval de Iquique.

*18 de septiembre: Aniversario de la primera Junta Nacional de Gobierno.

*25 de diciembre: Navidad

4.-La siguiente imagen representa una parte de una agenda



a) ¿Qué días faltan en la imagen?

Sábado y Domingo

b) ¿Cuál es el día que más le gusta?

La respuesta a este ítem va a depender de la opción del alumno.

c) Escriba en ella las actividades que debe usted realizar en estos días.

La respuesta a este ítem va a depender de la opción del alumno.



Cuídate para que nos
volvamos a encontrar.