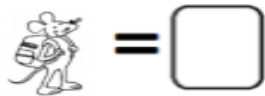



Nombre:

Curso:

## números hasta el 10

Cuenta los ratones y escribe su número.



**2. dibuja la cantidad de elementos que corresponde a cada número.**

<b>diez</b>	
<b>nueve</b>	
<b>uno</b>	
<b>cinco</b>	
<b>tres</b>	
<b>seis</b>	

**Pinta el número mayor.**

6	5
---	---

4	0
---	---

3	7
---	---

9	5
---	---

9	10
---	----

8	10
---	----

1	4
---	---

4	6
---	---

5	7
---	---

9	5
---	---








10	0
----	---

8	10
---	----

7	2
---	---

6	1
---	---

**Pinta el libro menor.**



Guía de Apoyo Matemáticas

Nombre:

Curso:

**1- Dibuja un círculo rojo arriba a la izquierda, un triángulo azul abajo a la derecha, un cuadrado verde abajo a la izquierda y una casa arriba a la derecha.**

<b>ARRIBA</b>	
<b>Izquierda</b>	<b>Derecha</b>
<b>Izquierda</b>	<b>Derecha</b>
<b>ABAJO</b>	

1- Pinta el  con el número mayor en cada caso.

4	3
---	---

5	8
---	---

6	1
---	---

4	7
---	---

2- Marca con una **X** el número menor en cada caso.

2	6
---	---

3	2
---	---

9	6
---	---

1	2
---	---

3- Escribe en el  el número que va justo antes de:

<input type="text"/>	4
----------------------	---

<input type="text"/>	9
----------------------	---

<input type="text"/>	6
----------------------	---

<input type="text"/>	2
----------------------	---

4- Escribe en el  el número que va justo después de:

3	<input type="text"/>
---	----------------------

5	<input type="text"/>
---	----------------------

3	<input type="text"/>
---	----------------------

9	<input type="text"/>
---	----------------------


5- Escribe en el  el número que va entre:

7	<input type="text"/>	9
---	----------------------	---

3	<input type="text"/>	5
---	----------------------	---

1	<input type="text"/>	3
---	----------------------	---

6- Marca con una **X** el número representado en cada caso:



4

5


6

6

9

8

7- Completa las secuencias según corresponda:



10

9

7