



Guía 1 de Matemática 2º año A
Prof: Marcela Martínez Galaz

| | | |
|---|---------------|---------------------|
| Nombre: | | |
| Meta: Realizar actividades de conteo y adiciones utilizando monedas. | Curso: | Fecha: marzo |
| O.A: 2 -5 | 2º A | Semana 1 |

I.- Lee en forma independiente y luego responde, si necesitas ayuda pídele a un adulto que te apoye. Responde en tu cuaderno y si quieres las imprimes.

1. Complete en el espacio señalado tal como se muestra en el ejemplo:

1.-



70

setenta



*90 =noventa
*100=cien

2.-



*75=setenta y cinco
*95=noventa y cinco
*55=cincuenta y cinco

3.-







*90=noventa
*56=cincuenta y seis.
*100= cien

4.-







*60=sesenta
*30=treinta
*65=sesenta v

5.-









*70=setenta
*55=cincuenta y cinco.
*85=ochenta v

2.-Observa y completa de la misma manera:



$70 + 9 = 79$


a.



$\square + \square = \square$

$$80 + 3 = 83$$


b.



$\square + \square = \square$

$$50 + 10 = 60$$

c.





$\square + \square = \square$

$$30 + 1 = 31$$

Diego tiene estas monedas. ¿Cuántas monedas tiene de cada una?



Completa la tabla:

| MONEDAS | CANTIDAD DE DINERO |
|---|--------------------|
|  | |
|  | |

¿Cuánto dinero tiene en total Diego?

Respuesta:

.....

| | |
|----|-----------------------------|
| 50 | Diego en total tiene \$ 140 |
| 90 | pesos. |