

HISTORIA-SEGUNDOSAB-OA8-GUIA12-SEMANA13

Objetivo: Caracterizar el paisaje de la zona sur de Chile ,utilizando imágenes y un vocabulario geográfico.

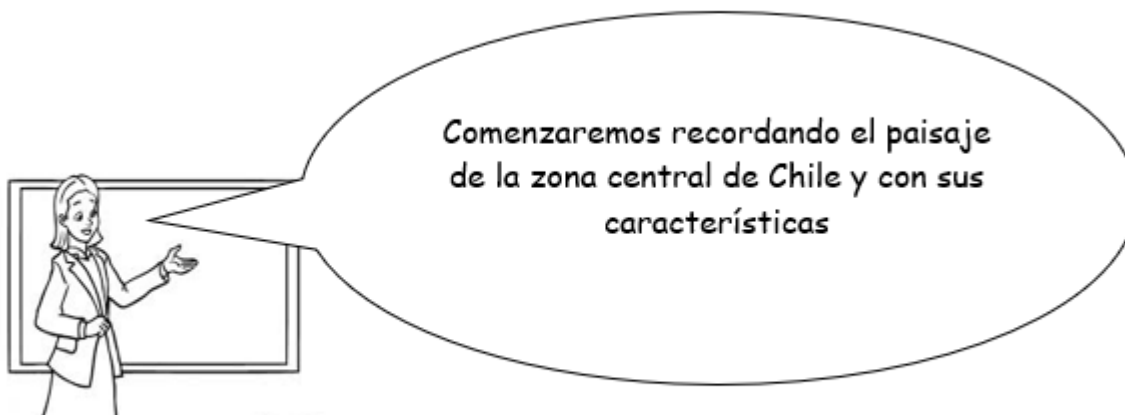
OA:8. Clasificar y caracterizar algunos paisajes de Chile según su ubicación en la zona norte, centro

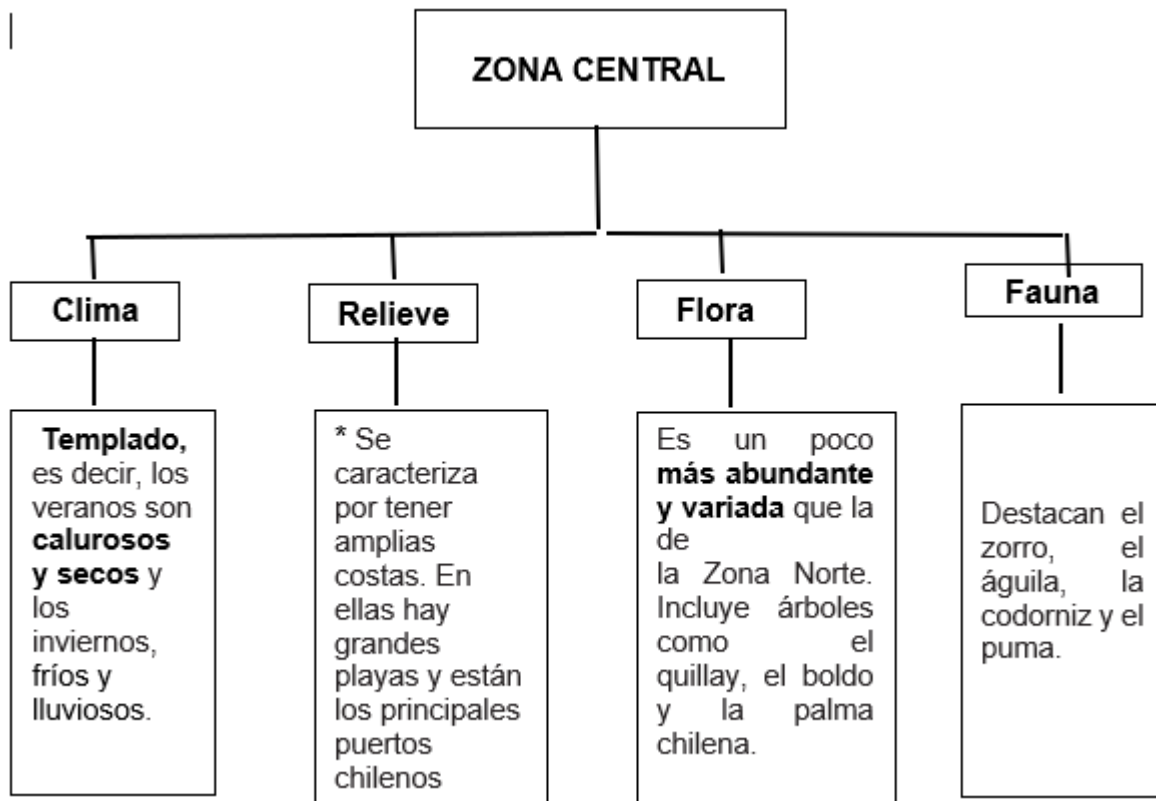
y sur del país, observando imágenes, y utilizando diversas fuentes y un vocabulario geográfico adecuado (océano, río, cordillera de los Andes y de la Costa, desierto, valle, costa, volcán, archipiélago, isla, fiordo, lago, ciudad y pueblo, entre otros)

***Obligatorio**

1. Nombre completo: *

Recordemos:






Recordemos el mapa de Chile por zonas.



¿Qué aprenderemos?



Hoy conoceremos la zona sur y sus características.

Características de la zona sur.

Paisajes de la Zona Sur

La **zona sur** se caracteriza por sus verdes paisajes, volcanes y lagos.



El **clima** en la **zona sur**, las temperaturas son templadas, pero a medida que avanzamos al polo sur el frío aumenta. Lluvia durante todo el año y en invierno en algunas zonas cae nieve.

El **relieve** se presenta con numerosos volcanes y lagos. La cordillera de los Andes y la cordillera de la Costa son altas, pero a medida que avanzan hacia el sur disminuyen su altura.




La **vegetación** es muy abundante debido a las abundantes lluvias. Además, hay bosques nativos formados por árboles propios de la zona, es decir, que no han sido plantados por el ser humano. Algunos árboles típicos son la araucaria y el roble.

En la **fauna** podemos encontrar una gran variedad de animales como los pumas, huemules y diversos tipos de aves.



Gente del sur.



¿Cómo te imaginas que vive la gente en esta zona sur?

A medida que avanzamos hacia el sur la **población disminuye** y **las ciudades se van distanciando**, debido a que las características de relieve (ríos, islas, canales) dificultan el transporte y la comunicación. Las principales actividades económicas son la **pesca** y la **ganadería**.



➕ Puerto Montt



➕ Frutillar

Responde según lo explicado, utilizando el teclado en las preguntas con respuesta corta.

2. 1.-¿Cuál de las siguientes características corresponde a la zona sur?,Haz clic en las que consideres correctas. * 1 punto

Selecciona todos los que correspondan.

- zona seca.
 abundantes lluvias.
 árbol típico araucaria.
 actividad económica la pesca.
 paisajes verdes.

3. 2.-¿Cómo se presenta el relieve de la zona sur? * 1 punto

4. 3.-¿Qué árboles son típicos en la zona sur? * 1 punto

5. 4.-¿Por qué la vegetación es más abundante en esta zona? * 1 punto

6. 5.-¿Qué características tiene el relieve en esta zona que dificulta el transporte y la comunicación? * 1 punto

7. 6.-¿Qué medios de transporte crees tú que se utilizan en esta zona,con dificultad en su relieve? * 1 punto

8. 7.-¿Qué tipo de fauna podemos encontrar en esta zona? *

1 punto

Para complementar tu aprendizaje ,puedes informarte con ayuda de tu texto de estudio en las páginas 36-37.



Este contenido no ha sido creado ni aprobado por Google.

Google Formularios