




HISTORIA-RETROALIMENTACION-SEGUNDOSAB-OA6-SEMANA10
Guía de Historia, geografía y ciencias sociales 2º año A-B
Prof: Marcela Martínez Galaz

Nombre:	Curso:	Fecha:
Objetivo de la clase: Orientarse en un entorno utilizando categorías de ubicación. O.A: Leer y dibujar planos simples de su entorno, utilizando puntos de referencia, categorías de posición relativa y simbología pictórica.	2 año A-B	Semana 10



Antes de comenzar quiero felicitarlos por los resultados obtenidos en la evaluación formativa de Historia Si bien no todos obtuvieron el puntaje ideal algunos de ustedes confundieron el cómo ubicarse en un plano. Ahora creo que les quedará más claro.

La **orientación espacial** es una habilidad básica para moverse y situarse dentro del espacio. Además, también es necesaria para actividades tan comunes como escribir recto, leer, diferenciar entre derecha e izquierda y, en general, **situar los objetos y orientar nuestros movimientos en el espacio** que nos rodea.

1.- Recordaremos algo muy básico que nunca debemos olvidar. Conocer nuestro lado derecho y nuestro lado izquierdo. Pinta de rojo el niño que se ubica a la izquierda y de azul el de la derecha, puedes dibujarlos en tu cuaderno, si no lo imprimes.



2.- Observa las imágenes y pinta el cuadrado de rojo si levanta la mano derecha y de azul, si levanta la mano izquierda.




3.- Ahora recordemos los puntos cardinales. Nosotros nos enfocaremos en los 4 principales, después trabajaremos con los puntos intermedios:



NORTE - SUR - ESTE - OESTE

*Observa la imagen y ayuda a Camila a orientarse, piensa que está amaneciendo y el sol aparece por el ESTE.



- a) Según la posición de Camila, el pueblo se encuentra al _____
- b) La piscina se ubica al _____ de Camila.
- c) El bosque esta hacia el _____ de Camila.

4.- Observa el plano y ubicate siguiendo las instrucciones dadas. Escribe tus respuestas en tu cuaderno.



a) Al norte de la casa de Luis se ubica:

La plaza

El colegio

El hospital

b) Al oeste de la plaza se ubica:

El colegio

La iglesia

El negocio


c) Si Luis camina una cuadra al norte y una cuadra al oeste, llegará a

Al negocio

La iglesia

Al colegio

5.- Para complementar este contenido te invito a desarrollar las páginas 11 actividad 3 y página 14 actividad 1.



¡BUEN TRABAJO!