




HISTORIA-SEGUNDOSAB-OA8-GUIA7-SEMANA7
Guía de Historia, geografía y sociales 2º año A
Prof: Marcela Martínez Galaz

Nombre:	Curso:	Fecha:
Objetivo de la clase: Identificar las zonas climáticas de Chile aplicando un vocabulario geográfico. O.A: Clasificar y caracterizar algunos paisajes de Chile según su ubicación en la zona norte, centro y sur del país, observando imágenes, y utilizando diversas fuentes y un vocabulario geográfico adecuado (océano, río, cordillera de los Andes y de la Costa, desierto, valle, costa, volcán, archipiélago, isla, fiordo, lago, ciudad y pueblo, entre otros)	2 año A-B	Semana 7




Comenzaremos recordando lo trabajado en la guía anterior ubicando las regiones de Chile y en especial la región en la que tu vives. Recuerda que si no puedes imprimir desarróllala en tu cuaderno.

Regiones

- | | |
|---------------------------------------|---|
| Arica y Parinacota | Maule |
| Tarapacá | Ñuble |
| Antofagasta | Biobío |
| Atacama | La Araucanía |
| Coquimbo | Los Ríos |
| Valparaíso | Los Lagos |
| Metropolitana de Santiago | Aysén del General Carlos Ibáñez del Campo |
| Libertador General Bernardo O'Higgins | Magallanes y de la Antártica Chilena |

Chile tiene 16 regiones, tú vives en la sexta región conocida como "Libertador Bernardo O' Higgins". Su capital regional es Rancagua.

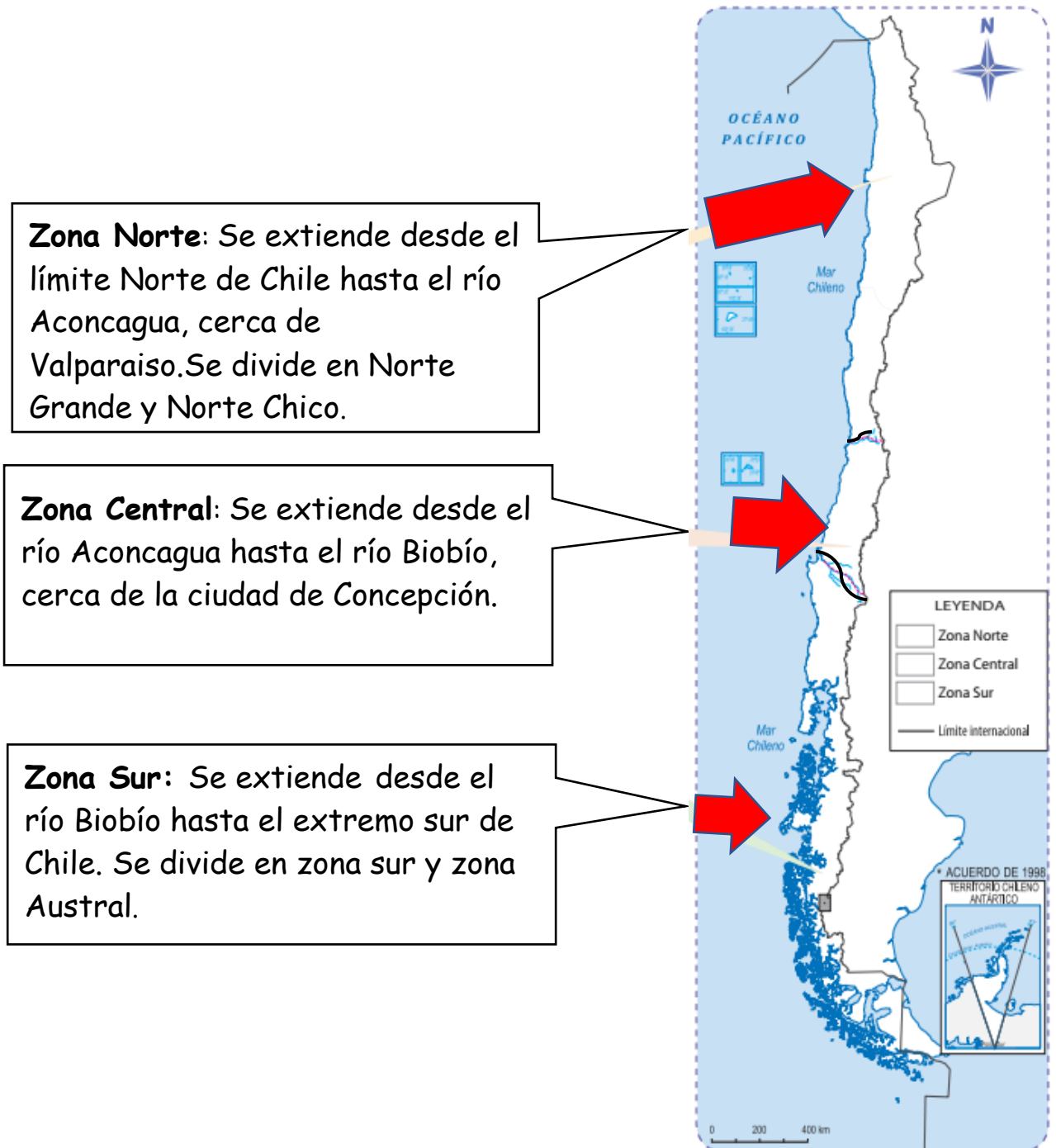


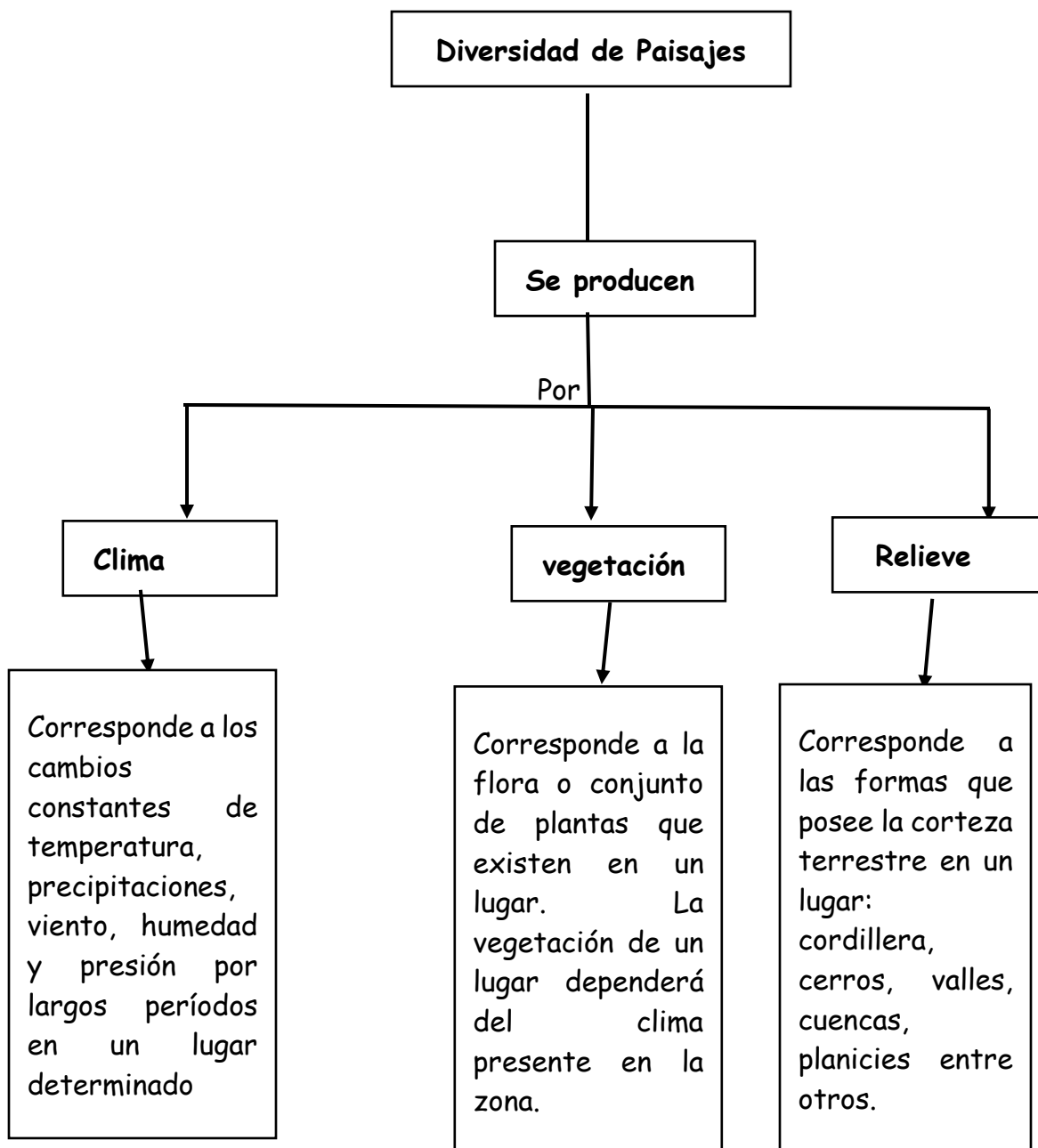
Hoy trabajaremos caracterizando algunos paisajes de Chile. Para complementar este contenido te puedes apoyar del texto de estudio en las páginas 28-29.

Las zonas naturales de Chile

¿Cómo es Chile?

Chile se divide en tres zonas naturales, que tienen distintos paisajes y climas.





Climas



Desértico



Templado




Templado lluvioso



Polar

Vegetación



Relieves



Planicie litoral



Volcán

Actividades

Instrucciones

Lee atentamente y luego responde en la guía o en tu cuaderno.

1.- ¿En qué zona natural de Chile vives tú? Marca con una X y luego enciérrala en el mapa.

Zona Norte
Zona Central
Zona Sur

2.- Pinta cada zona natural con un color diferente. Guíate por las líneas y luego completa la simbología. (Si no la tienes impresa, realiza un bosquejo en tu cuaderno del mapa de Chile y realiza la actividad).



3.- Observa la imagen y luego describe, según el paisaje.



Relieve: _____

Clima: _____

Vegetación: _____

¡Sigue adelante, lo estas haciendo muy bien!