

MATEMATICA-PRIMEROAB-OA9-GUIA23-SEMANA23

Objetivo de la clase: Conocer el concepto de sustracción.

Indicador: Representan adiciones y sustracciones con material concreto, de manera pictórica y simbólica hasta 10.

OA 9: Demostrar que comprenden la adición y sustracción de números del 0 al 20 progresivamente, de 0 a 5, de 6 a 10, de 11 a 20 con dos sumandos:

- Usando un lenguaje cotidiano para describir acciones desde su propia experiencia.
- Representando adiciones y sustracciones con material concreto pictórico, de manera manual y/o usando software educativo.
- Representando el proceso en forma simbólica.
- Resolviendo problemas matemáticos y resolviéndolos.

Profesoras: Leticia Bravo - Irene Valenzuela

***Obligatorio**

1. Nombre y apellido *

2. Curso *

Marca solo un óvalo.

1°A

1°B

Recuerda que debes pedir ayuda a un adulto para que lea la guía.



Hola queridos estudiantes, espero que se encuentren muy bien.

La semana pasada representaron adiciones de manera concreta y simbólica.

Esta semana, conocerán el concepto de **Sustracción**.

Ahora que ya sabes lo que es Adición , te invito a conocer lo contrario de la suma.
¿Habías escuchado la palabra sustracción?

¿Qué es una Sustracción?

Sustracción = Resta

Es quitar, sustraer una cantidad de otra

El símbolo de la resta o sustracción es



La sustracción es una operación básica que consiste en sustraer o quitar cosas a lo que ya hay.

Comenta con un adulto esta situación problemática.

Tengo 8 lápices y se me pierde 1. ¿Cuántos lápices me quedan?



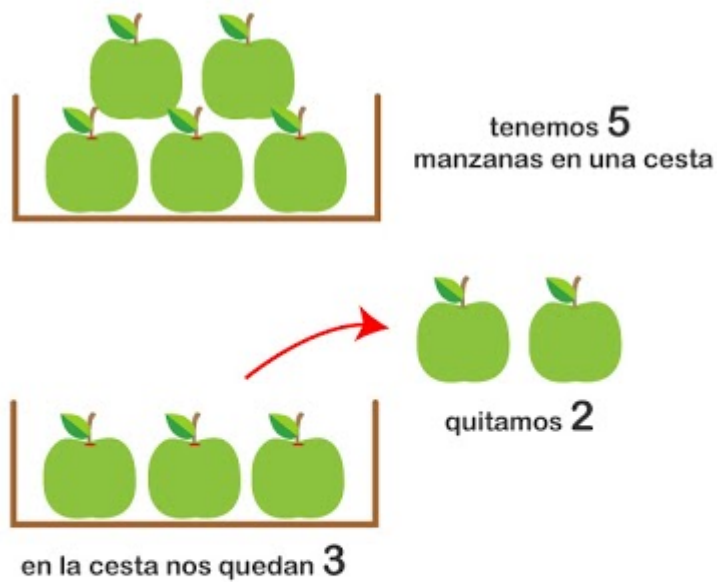
Ejemplo:

$$***8 - 1 = 7***$$

Antes del resultado se

escribe el signo (=)

Practicemos la sustracción con material concreto



$$5 - 2 = 3$$



RECUERDA QUE RESTAR ES QUITAR.

3. Marca la alternativa que consideres correcta en las siguientes sustracciones: * 1 punto

Hay 4 peras y me como 2. ¿Cuántas peras quedan?



Marca solo un óvalo.

- A) Quedan 3 peras
 B) Quedan 2 peras
 C) Quedan 4 peras

4. *

1 punto



Selecciona todos los que correspondan.

- A) 6
 B) 3
 C) 2

5. Identifica y marca el signo que representa la sustracción. *

1 punto

Marca solo un óvalo.



Opción 1



Opción 2



Opción 3

Realiza la actividad 22 del cuaderno de actividades.




22 **Restar (1)** Libro 2ººº
Pág. 52
Pág. 58 **10**
minutos

1 Observa la historia y completa.

Había 7.

Me comí 2.



- =

Respuesta: pasteles.



2 Resta.

a) $6 - 5 = \square$

b) $8 - 4 = \square$

c) $9 - 1 = \square$

d) $10 - 3 = \square$

e) $3 - 2 = \square$

3 Tenía 8 hojas de papel lustre. Hoy usé 6, ¿cuántas me quedan?

- =


Escribe

Respuesta: papeles.

6. Observa la operatoria. ¿Es una suma o resta? *

1 punto

TICKET DE SALIDA



5 3 = 2

Marca solo un óvalo.

- A) Resta
- B) Suma
- C) Ninguna de las dos.

Este contenido no ha sido creado ni aprobado por Google.

Google Formularios