

Nombre:

Meta: Contar, reconocer desde el cero hasta 10, tanto en números como en palabras, asociar cantidad de objetos con el número, orden de los números.

OA:01-03-11


Curso:
1° A
1° B

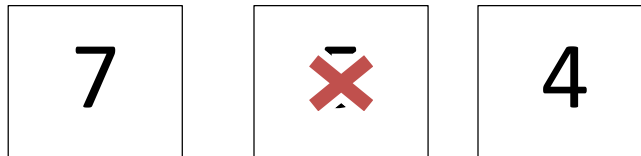

Fecha: Abril
Semana 5

- Responde esta guía, si necesitas ayuda pídele a un adulto que te apoye.
- Trabaja con material concreto, puede ser palitos de helados, fichas, botones, etc.
- Recuerda si no puedes imprimirlas; trabaja tu cuaderno de matemáticas.


1.- Escribe el número en el recuadro.

UNO	1
CERO	0
DOS	2




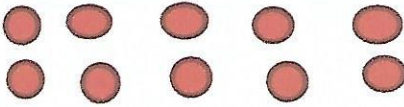

2.- Cuenta las  y marca con una X el número que corresponde.




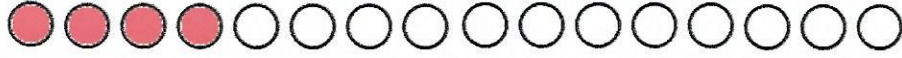


3.- Cuenta los objetos y escribe cuántos hay de cada uno.





















4.- Dibuja la cantidad de elementos que se indica en el recuadro.

8	
4	
2	
10	
6	

5.- Colorea los círculos según el número que indica el recuadro.

1	
4	
0	
6	

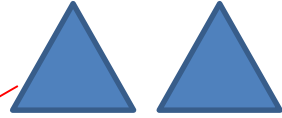
6.- Completa con la cantidad de puntos que falta.

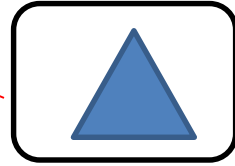


7.- Une con una línea la palabra con la cantidad de triángulos que corresponde.


UNO



DOS



CERO



SEIS



8.- Completa los espacios vacíos con los números del 0 al 10 que faltan.

