

HISTORIA-PRIMEROAB-OA10-GUIA26- SEMANA26

Objetivo de la clase: Identificar algunas características naturales de distintos paisajes utilizando vocabulario geográfico.

Indicador: Nombran algunas características naturales de distintos paisajes utilizando correctamente vocabulario geográfico.

Objetivo de Aprendizaje: Observar y describir paisajes de su entorno local, utilizando vocabulario geográfico adecuado (país, ciudad, camino, pueblo, construcciones, cordillera, mar, vegetación y desierto) y categorías de ubicación relativa (derecha, izquierda, delante, detrás, entre otros).OA10

Profesoras: Irene Valenzuela - Leticia Bravo

***Obligatorio**

1. Nombre y apellido *

2. Curso *

Marca solo un óvalo.

1° A

1° B

Recuerda que debes pedir ayuda a un adulto para que te lea esta guía.



Hola queridos estudiantes, espero que se encuentren muy bien.

La semana pasada identificaron elementos naturales del paisaje.

Esta semana utilizarás un vocabulario geográfico para nombrar las características naturales del paisaje.

Recordemos


Los principales elementos naturales del paisaje son:
relieves, aguas superficiales, mares y océanos,
vegetación, fauna y clima.

Un **desierto** es de clima árido, en donde las precipitaciones son escasas. Estos suelen poseer poca vida, pero eso depende del tipo de desierto; en muchos existe vida abundante, la vegetación se adapta a la poca humedad y la **fauna** usualmente se resguarda durante el día para preservar humedad.

La cordillera de los Andes, recorre el lado oeste de Sudamérica, son una de las cadenas de montañas más extensas del mundo. Sus terrenos variados incluyen glaciares, volcanes, praderas, desiertos, lagos y bosques.



Un río o flujo de agua es una corriente natural que fluye con continuidad por un cauce en la superficie terrestre. Un río desemboca en el mar, en un lago o en otro río, en cuyo caso se denomina afluente.





Un **lago** es un cuerpo de agua generalmente dulce, que se encuentra separado del mar. El aporte de agua de todos los lagos viene de los ríos y de las precipitaciones.

3. Observa la siguiente imagen. ¿Qué elemento del paisaje nos muestra la imagen? *

1 punto



Marca solo un óvalo.

- A) Camino
- B) Lago
- C) Cordillera


4. Indique cuál de las imágenes presenta un lago. *

1 punto


Marca solo un óvalo.



Opción 1



Opción 2



Opción 3

5. Observa la siguiente imagen. ¿Qué elemento del paisaje nos muestra la imagen? *

1 punto



Marca solo un óvalo.

- A) Lago
- B) Desierto
- C) Cordillera



TICKET DE SALIDA

6. El paisaje que muestra la imagen corresponde a:

1 punto



Marca solo un óvalo.

- A) Lago
- B) Bosque
- C) Cordillera

7. Marca algunos elementos del paisaje natural que aprendiste hoy: *

3 puntos

Selecciona todos los que correspondan.

- A) Edificios
- B) Desierto
- C) Cordillera
- D) Caminos
- E) Lagos

Este contenido no ha sido creado ni aprobado por Google.

Google Formularios