

CIENCIAS NATURALES-PRIMEROAB-OA6-GUIA19-SEMANA19

Prof.: Leticia Bravo- Irene Valenzuela

Objetivo: Identificar y describir la función del sentido del tacto.

OA6 Identificar y describir la ubicación y la función de los sentidos proponiendo medidas para protegerlos y para prevenir situaciones de riesgo.

***Obligatorio**

1. Nombre completo: *

2. Curso: *

Marca solo un óvalo.

1° A

1° B



Hola ¿Cómo están? Me imagino que super bien.
La clase pasada ubicamos en el cuerpo los órganos de los sentidos e identificamos y describimos la función de los sentidos de vista y el gusto.
Ahora vamos a seguir aprendiendo de nuestros órganos de los sentidos.

Recordemos la clase anterior:

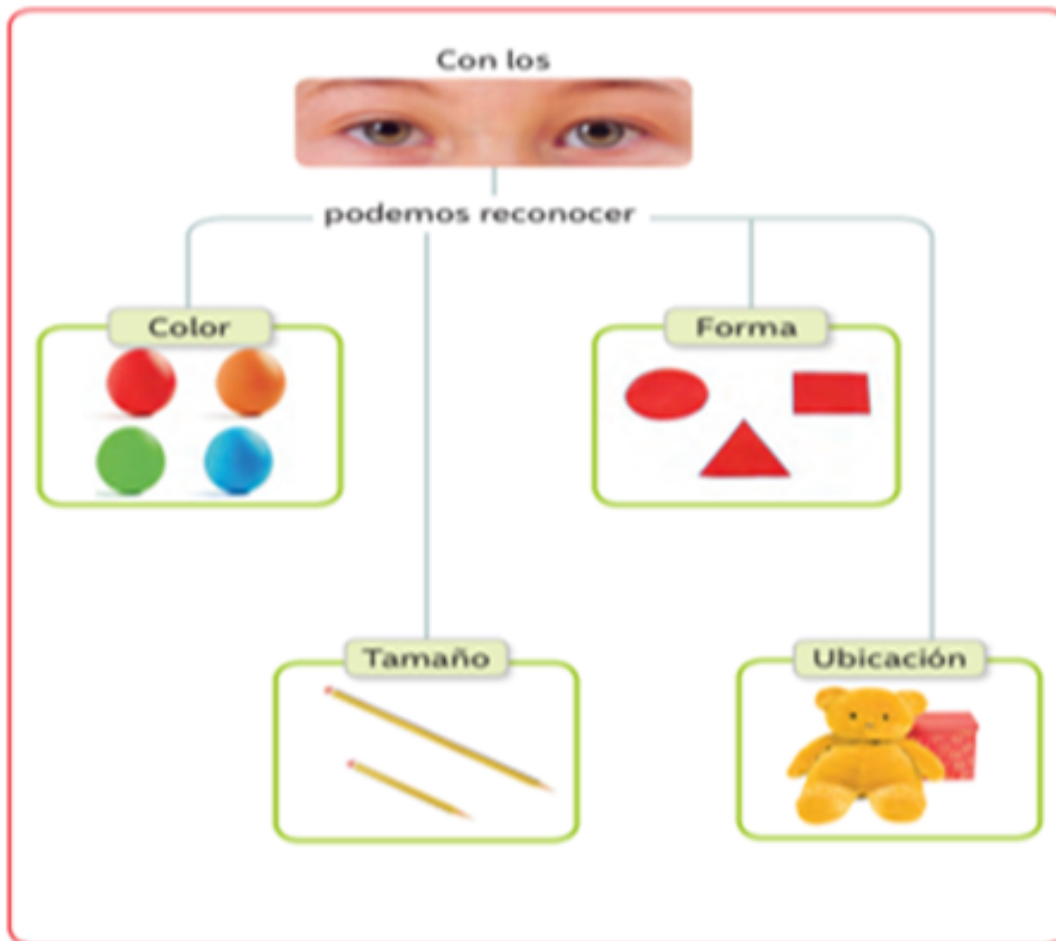
¿QUÉ SON LOS SENTIDOS?

Son lo que nos
permite a las
personas y a los
animales saber que
hay a nuestro
alrededor mediante
el tacto, el gusto,
el oído, el olfato y
la vista.



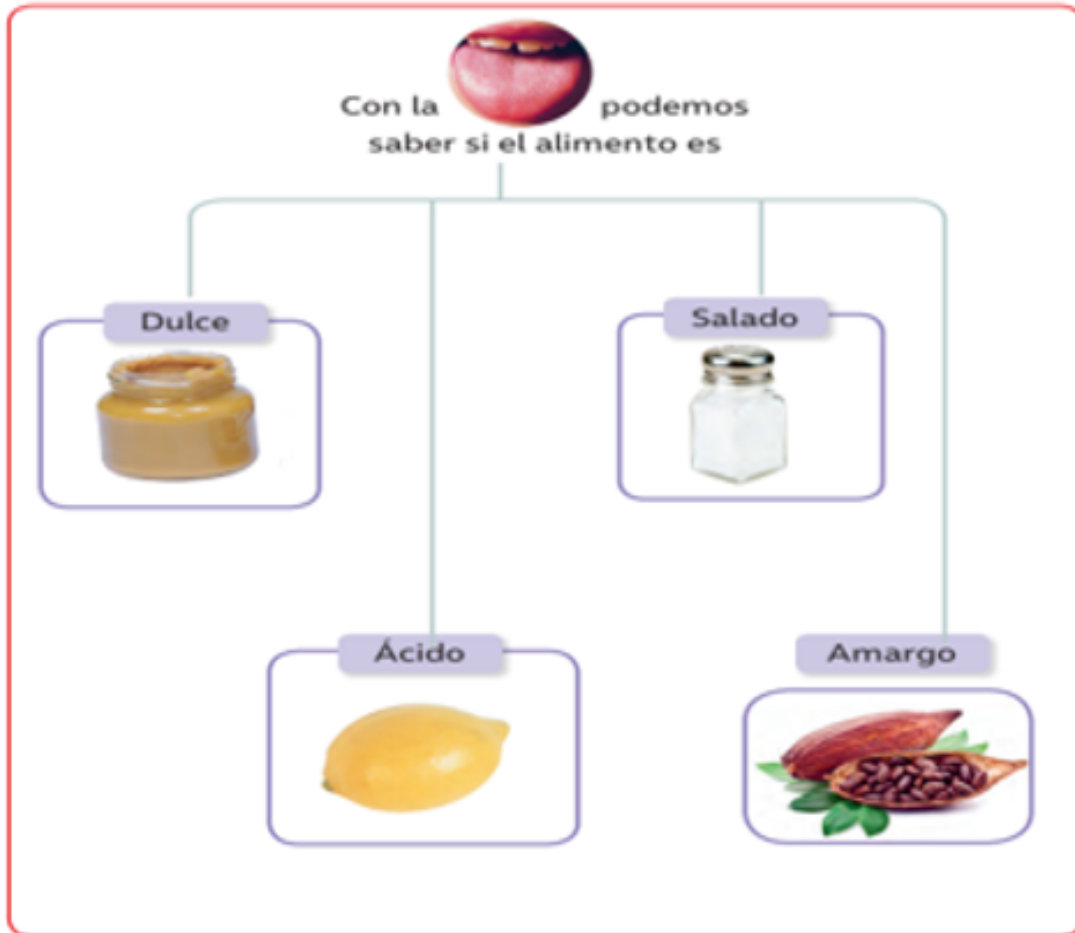
El **sentido de la vista** nos permite conocer las formas, tamaños y colores de los objetos que nos rodea.

El órgano encargado de ello es **el ojo**.



El **sentido del gusto** nos permite distinguir los sabores entre los cinco sabores básicos: Agrio, amargo, dulce, salado y ácido.

El órgano se encuentra **en la boca y en la lengua**.



¡Ahora a seguir aprendiendo!

El sentido del tacto: gracias a él reconocemos diferentes texturas como liso, blando, rugosos o duro. Además, lo caliente o lo frío.

El órgano del cuerpo que permite sentir el tacto es la piel.



Caliente o frío




Suave o áspero



Blando o duro

El órgano del **tacto** lo puedes sentir con cualquier **parte del cuerpo**



Actividad 1

- Estas actividades las realizarás en el texto de actividades “Ciencias Naturales 1°Básico” en la páginas 7-8, donde identificarás la función de la piel.

- También puedes descargar el texto

https://curriculumnacional.mineduc.cl/614/articles-145397_recurso_.pdf.pdf

- Si necesitas ayuda pídele a un adulto que te apoye.

Responde la siguiente pregunta. Marca la alternativa correcta haciendo un clic.

3. 1. Observa las fotografías y responde. ¿Cómo sentirías tus manos si tomaras el vaso con hielo? * 1 punto



Marca solo un óvalo.

Calientes

Frías

4. 2.- ¿Qué sucedería si tomas una taza de leche muy caliente?. Marca lo que ocurriría. * 1 punto

Marca solo un óvalo.



Opción 1



Opción 2

5. 3.- ¿Qué sentido están utilizando mayormente? *

1 punto



Marca solo un óvalo.

- Gusto
- Tacto
- Audición

6. 4.- Puedo sentir la textura de las cosas a través de... *

1 punto

Marca solo un óvalo.

- Visión
- Gusto
- Tacto

7. *

1 punto

Ticket de salida

Marca la alternativa correcta:

1.- ¿Para poder distinguir el sabor cuando comemos necesitamos el sentido?

Marca solo un óvalo.

- Olfato
- Gusto
- Visión

Te invito a ver el siguiente video del órgano del tacto.



<http://youtube.com/watch?v=A7NF6yoeq4Y>

Te invito a ver el siguiente video del órgano del tacto.



[http://youtube.com/watch?](http://youtube.com/watch?v=VA75dpMJEuM)

[v=VA75dpMJEuM](http://youtube.com/watch?v=VA75dpMJEuM)

Este contenido no ha sido creado ni aprobado por Google.

Google Formularios