

CIENCIAS NATURALES-PRIMEROAB-OA1-GUIA18-SEMANA18

Leticia Bravo- Irene Valenzuela

Ubicar en el cuerpo los órganos de los sentidos.

Identificar y describir la función de los sentidos.(vista-gusto)

OA6 Identificar y describir la ubicación y la función de los sentidos proponiendo medidas para protegerlos y para prevenir situaciones de riesgo.

***Obligatorio**

1. Nombre completo: *

2. Curso: *

Marca solo un óvalo.

1° A

1° B



Hola niños(as) las clases pasadas hicimos un experimento, donde debías ir registrando los observado y también identificamos lo que necesitan los seres vivos para sobrevivir. Hoy comenzaremos en esta clase una nueva unidad que son Los órganos de los sentidos.

¡Vamos a seguir aprendiendo!

Los órganos de los sentidos.

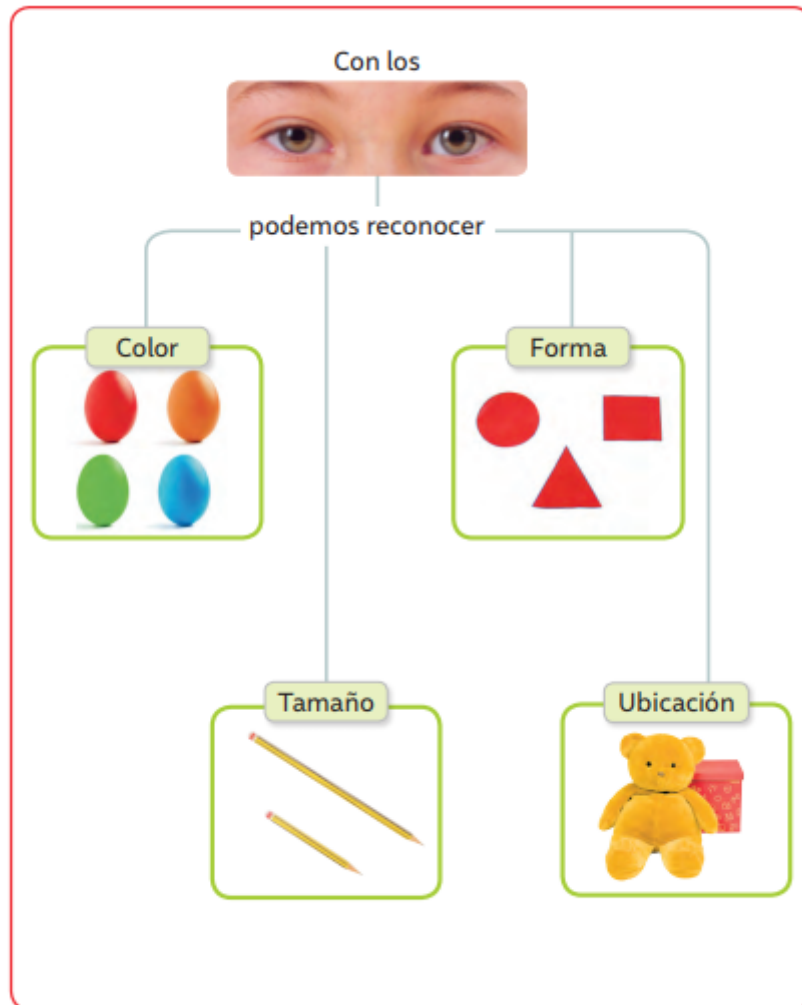
¿QUÉ SON LOS SENTIDOS?

Son lo que nos permite a las personas y a los animales saber que hay a nuestro alrededor mediante el tacto, el gusto, el oído, el olfato y la vista.



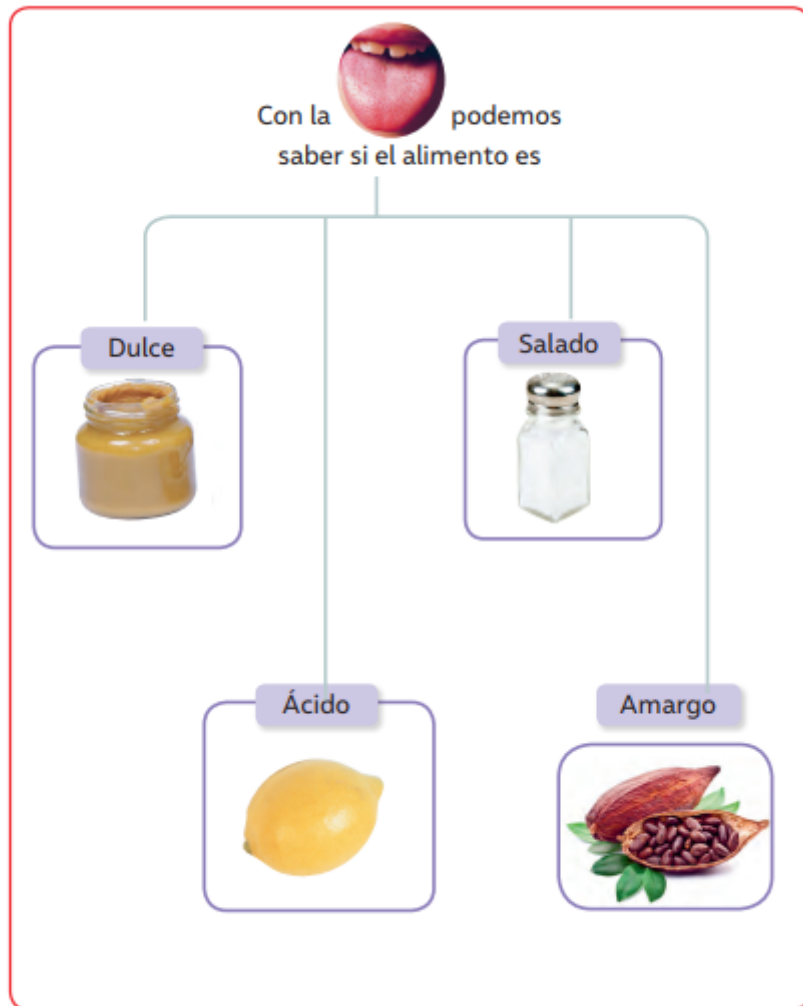
El **sentido de la vista** nos permite conocer las formas, tamaños y colores de los objetos que nos rodea.

El órgano encargado de ello es **el ojo**.



El **sentido del gusto** nos permite distinguir los sabores entre los cinco sabores básicos: Agrio, amargo, dulce, salado y ácido.

El órgano se encuentra **en la boca y en la lengua.**



Actividad 1

Estas actividades las realizarás en el texto de actividades "Ciencias Naturales 1°Básico" en la páginas 4 , donde deberás unir cada sentido y su órgano.

En la páginas 5 y 6 ,identificarás las funciones de los órganos.

- También puedes descargar el texto


https://curriculumnacional.mineduc.cl/614/articles-145397_recurso_pdf.pdf

- Si necesitas ayuda pídele a un adulto que te apoye.

Responde la siguiente pregunta.Marca la alternativa correcta haciendo un clic.

3. 1.- ¿Qué órgano de los sentidos se indica con el número 1? *

1 punto



Marca solo un óvalo.


Boca

Ojo.

Oído

4. 2.- ¿Qué órgano de los sentidos se indica con el número 5? *

1 punto



Marca solo un óvalo.

- Audición
- Tacto.
- Olfato

5. 3.- ¿Qué órgano de los sentidos que está usando esta niña? *

1 punto



Marca solo un óvalo.

- Gusto
- Olfato
- Visión

6. *

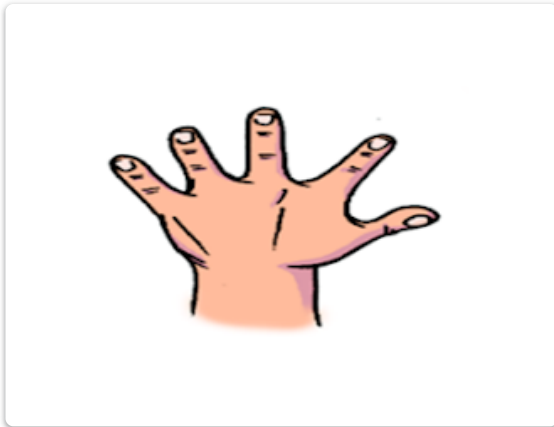
1 punto

Ticket de salida

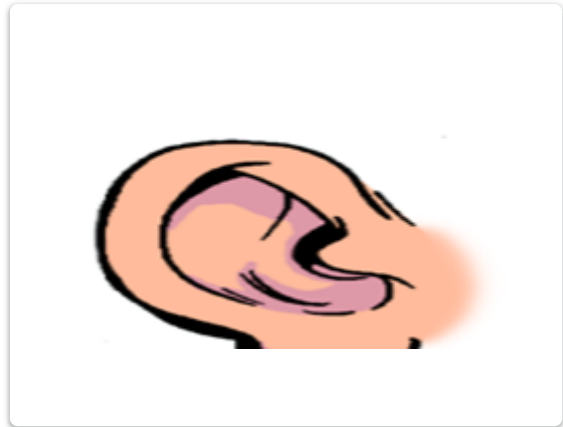
Marca la alternativa correcta:

1.- ¿Cuál es la parte del cuerpo que te sirve para ver las cosas, colores y formas

Marca solo un óvalo.



Opción 1



Opción 2

Otro: _____



Opción 3

Este contenido no ha sido creado ni aprobado por Google.

Google Formularios

