



Guía 5 de Ciencias Naturales 1° año A-B

Nombre:		
Meta: Identificar y describir la función y ubicación de los sentidos OA:6	Curso: 1° A 1° B	Fecha: Abril Semana 5

- Responde esta guía, si necesitas ayuda pídele a un adulto que te apoye.
- Recuerda si no puedes imprimirlas; trabaja tu cuaderno de ciencias naturales.
- Pide a un adulto que te lea el texto.

1.- Escucha y canta la canción de los “Cinco Sentidos” enviada por whats App o descárgala en el enlace

<https://youtu.be/zMMG8jb48Yw>

2.- Luego responden las siguientes preguntas en **forma oral**:

- a) ¿Cuántos sentidos tenemos?
- b) ¿Dónde se ubican los ojos y qué función cumplen?
- c) ¿Dónde se ubican los oídos y qué función cumplen?
- d) ¿Dónde se ubica la nariz y qué función cumple?
- e) ¿Dónde se ubica la lengua y qué función cumple?

¡Ahora a seguir aprendiendo!!!!!!




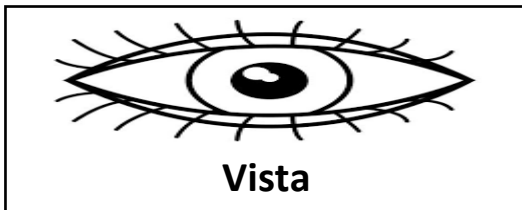
Nuestros órganos de los sentidos humanos

Los seres humanos tenemos cinco sentidos que nos sirven para conocer y relacionarnos con nuestro entorno; son el **gusto, la vista, el olfato, el oído y el tacto.**

Los órganos de los sentidos absorben lo que sucede a nuestro alrededor y las transmite al cerebro, para que éste las convierta en sensaciones.

Con la vista notamos lo que pasa a nuestro alrededor; con el gusto reconocemos los sabores; con el olfato olemos lo que está en el entorno; con el oído sentimos todos los sonidos y con el tacto reconocemos las cosas cuando las tocamos. Y aunque los cinco órganos de los sentidos crean un buen equipo, hay personas que no los poseen todos, pero logran un equilibrio aumentando el poder de los que sí poseen.

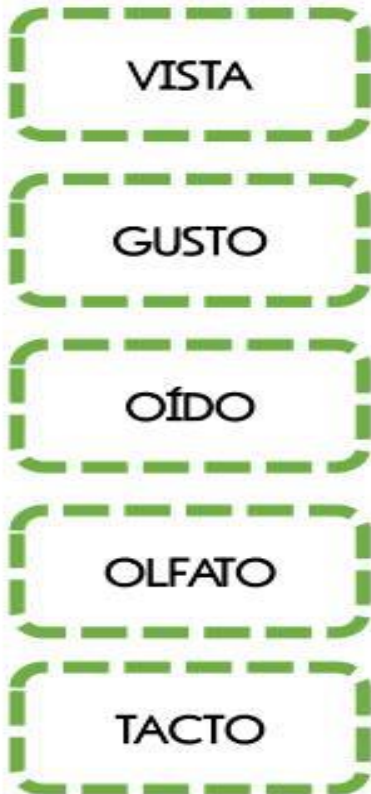
3. Dibuja y escribe cada uno de los sentidos aprendidos, utilizando la información del texto.





Guía 5 de Ciencias Naturales 1° año A-B

4.- Une con una línea cada sentido con el órgano que corresponde



¡Felicitaciones!
Me ayudas a ubicar en tu cuerpo los órganos de los sentidos y decir su función.
¡MUY BIEN!